

ΕΠΙΛΕΓΜΕΝΕΣ ΣΕΛΙΔΕΣ ΠΑΡΑΔΕΙΓΜΑΤΩΝ  
από το βιβλίο

ΚΥΜΑΤΙΚΗ, ΚΒΑΝΤΙΚΗ και ΣΤΑΤΙΣΤΙΚΗ ΦΥΣΙΚΗ:  
ΠΑΡΑΔΕΙΓΜΑΤΑ & ΠΡΟΒΛΗΜΑΤΑ

Σ. Δ. Π. Βλασσόπουλος, Ή. Κ. Κατσούφης,  
Γ. Τικτόπουλος, Τ. Α. Φίλιππας

Ε. Μ. Π. 1980, 1989

**Παράδειγμα II-3 Λόγος μαζών πυρήνων H και D**

Ο Urey ανακάλυψε το 1932 ότι στο φάσμα έκπομπής του υδρογόνου, δίπλα στη γνωστή έντονη γραμμή με μήκος κύματος  $4861.320 \text{ \AA}$ , υπάρχει και μία άλλη πολύ αμυδρή με μήκος κύματος  $4859.975 \text{ \AA}$ . Η δεύτερη αυτή γραμμή αποδόθηκε στην ύπαρξη ενός ισότοπου του υδρογόνου, το δευτέριο, που απαντάται σε πολύ μικρή αφθονία στη φύση. Λάβετε υπόψη και τη κίνηση του πυρήνα στο υπόδειγμα Rutherford-Bohr για ένα υδρογονοειδές άτομο και υπολογίστε το λόγο των μαζών των δύο ισότοπων. Συγκρίνετε το αποτέλεσμα σας με το λόγο των μαζών που υπολογίζεται από ένα πίνακα.

**Λύση**

\*Ας υποθέσουμε ότι ο πυρήνας με μάζα  $M$  και το μοναδικό  $h$ -

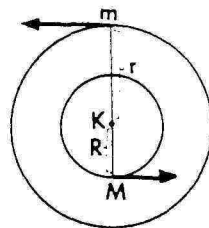
Λεκτρόνιο με μάζα  $m$  κινούνται γύρω από το κέντρο μάζας  $K$  διαγράφοντας κυκλικές τροχιές.

Από τον όρισμό του  $K$  θα ισχύει:

$$MR = mr \quad (1)$$

όπου  $R$  και  $r$  είναι αντίστοιχα οι αποστάσεις του πυρήνα και του ηλεκτρονίου από το  $K$ .

Αν  $\omega$  είναι η κοινή γωνιακή ταχύτητα περιστροφής τότε η ολική στροφομή του συστήματος ως προς το  $K$  θα είναι



$$J_{ολ} = mr^2\omega + MR^2\omega$$

Εφαρμόζοντας τη συνθήκη κβαντώσεως του Bohr για την  $J_{ολ}$  και χρησιμοποιώντας την (1) έχουμε

$$mr^2\omega \left(1 + \frac{m}{M}\right) = n\hbar \quad (2)$$

Το ηλεκτρόνιο εκτελεί κυκλική κίνηση υπό την επίδραση της δύναμης Coulomb που εξασκεΐται από τον πυρήνα. Η κεντρομόλος αυτή δύναμη θα ισοϋται με

$$m\omega^2 r = \frac{Ze^2}{4\pi\epsilon_0 (r+R)^2} \quad (3)$$

όπου  $Z$  ο ατομικός αριθμός του πυρήνα.

Οι (1) και (3) δίνουν

$$m\omega^2 r^3 = \frac{Ze^2}{4\pi\epsilon_0 \left(1 + \frac{m}{M}\right)^2} \quad (4)$$

Τέλος η ολική ενέργεια του συστήματος το οποίο θεωρούμε μη σχετικιστικό θα είναι

$$E_{ολ} = \frac{1}{2} mr^2\omega^2 + \frac{1}{2} MR^2\omega^2 - \frac{Ze^2}{4\pi\epsilon_0 (r+R)}$$

ή

$$E_{ολ} = \frac{1}{2} mr^2\omega^2 \left(1 + \frac{m}{M}\right) - \frac{Ze^2}{4\pi\epsilon_0 r \left(1 + \frac{m}{M}\right)} \quad (5)$$

Λύνοντας τις (2) και (4) ως προς  $r$  και  $\omega$  και αντικαθιστώντας στην (5) βρίσκουμε

$$E_{οχ} = - \frac{Z^2 \mu}{2n^2} \left( \frac{e^2}{4\pi\epsilon_0} \right)^2 \frac{1}{n^2}$$

όπου τό  $\mu = \frac{mM}{m+M}$  λέγεται ή άνηγμένη μάζα τοϋ συστήματος και άντικαθιστά τό  $m$  στόν κατά τά άλλα άπαράλλακτο τύπο για την  $E_{οχ}$ , που βρίσκουμε όταν ο πυρήνας θεωρείται άκίνητος.

Η συχνότητα της άκτινοβολίας που εκπέμπεται κατά την αποδιέγερση από την στάθμη με  $n=n_{ορχ}$  στη στάθμη με  $n=n_{χα}$  δίνεται από τη σχέση

$$h\nu = \Delta E = \frac{hc}{\lambda}$$

όπότε ή (6) δίνει:

$$\frac{1}{\lambda} = Z^2 R \left( \frac{1}{n_{χα}^2} - \frac{1}{n_{ορχ}^2} \right) \quad (7)$$

όπου  $R$  ή τροποποιημένη σταθερά Rydberg

$$R = \frac{\mu e^4}{8\epsilon_0^2 h^3 c}$$

Επειδή ή μάζα τοϋ πυρήνα τοϋ ατόμου τοϋ υδρογόνου  $M_1$  είναι διαφορετική από εκείνη τοϋ δευτερίου  $M_2$  για αυτό τά άντίστοιχα  $\lambda_1$  θα διαφέρουν και επομένως και τά άντίστοιχα  $\lambda_2$ . Χρησιμοποιώντας την (7) δύο φορές με τά γνωστά μήκη κύματος  $\lambda_1 = 4861.320 \text{ \AA}$  και  $\lambda_2 = 4859.975 \text{ \AA}$  βρίσκουμε για τόν ζητούμενο λόγο:

$$\frac{M_2}{M_1} = \frac{3 \left( 1 + \frac{m}{M_1} \right) - 1}{3 \left( 1 + \frac{m}{M_2} \right) - 1} = 1.034$$

όπου  $3 = \frac{\lambda_2}{\lambda_1}$  και  $\frac{m}{M_1} = 1.71836$ .

Από πίνακα πυρηνικών μαζών βρίσκουμε ότι  $\frac{M_2}{M_1} = 1.99907$ .

#### Παράδειγμα II-4

Παρατηρητής κοιτάζει φωτεινή πηγή που βρίσκεται σε απόσταση 100 m και εκπέμπει φωτεινή ροή 0.01 W. Υπολογίστε τόν αριθμό τών φωτονίων που μπαίνουν στο μάτι τοϋ παρατηρητή ανά δευτερόλεπτο. Υποθέστε ότι ή διάμετρος της κόρης τοϋ ματιοϋ είναι 4 mm και ότι τό φως που εκπέμπεται έχει μήκος κύματος 5600 Å.

τόνιο. (Υποθέτουμε ότι οι πυρήνες του μετάλλου της ανόδου είναι τόσο βαρείς, ώστε μένουν ακίνητοι κατά τη διάρκεια της παραπάνω διαδικασίας). Μπορούμε λοιπόν να γράψουμε, σε προφανή συμβολισμό:

$$h\nu \leq eV \quad \text{ή} \quad h \frac{c}{\lambda} \leq eV \quad \text{ή} \quad \lambda \geq 2\pi \frac{\hbar c}{eV} \equiv \lambda_{\min},$$

όποτε

$$\lambda_{\min} = 0.41 \text{ \AA}.$$

### Παράδειγμα II-6 Ανάκρουση κατά την έκπομπή φωτονίου

Σωματίδιο με μάζα  $M_i$  διασπάζεται εκπέμποντας ένα φωτόνιο. Το σωματίδιο ανακρούεται και έχει μάζα  $M_f$  μετά την έκπομπή του φωτονίου. Το φωτόνιο που εκπέμπεται όταν παρατηρείται στο αδρανειακό σύστημα αναφοράς, όπου το σωματίδιο ήταν αρχικά ακίνητο, έχει συχνότητα  $\omega$ . Αν  $\omega_0$  είναι η συχνότητα του φωτονίου στη περίπτωση που δέν λάβουμε υπόψη την ανάκρουση (δηλ. άπειρο  $M_i$ ), α) δείξτε ότι

$$\omega = \frac{(M_i + M_f)}{2M_i} \omega_0 = \omega_0 \left\{ 1 - \frac{\omega_0 \hbar}{2M_i c^2} \right\}$$

β) Υπολογίστε τη σχετική μετατόπιση  $(\omega_0 - \omega)/\omega$  για την κίτρινη γραμμή που εκπέμπεται από το άτομο νατρίου. Υπολογίστε επίσης το  $(\omega_0 - \omega)/\omega$  για την ακτινοβολία  $\gamma$  με ενέργεια 113 keV που εκπέμπεται από το ισότοπο του αφνίου  ${}_{72}\text{Hf}^{177}$ .

### Λύση

α) Στο σύστημα  $K$  όπου αρχικά ήρεμει το σωματίδιο, η διατήρηση της ολικής ενέργειας και της ολικής ορμής δίνουν:

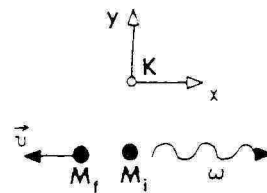
$$M_i c^2 = \gamma M_f c^2 + \hbar\omega, \quad \gamma = \frac{1}{\sqrt{1 - \frac{v^2}{c^2}}} \quad (1)$$

$$0 = \frac{\hbar\omega}{c} \hat{x} - \gamma M_f \vec{v}, \quad (2)$$

όπου  $\hat{x}$  το μοναδιαίο διάνυσμα κατά τη διεύθυνση του άξονα των  $x$  που δεχόμαστε ότι συμπίπτει με την διεύθυνση κινήσεως του φωτονίου (χωρίς περιορισμό της γενικότητας).

Υψώνουμε την (1) στο τετράγωνο και παίρνουμε

$$M_i^2 c^4 + \hbar^2 \omega^2 - 2M_i c^2 \hbar\omega = \gamma^2 M_f^2 c^4$$





Αντικαθιστώντας σ'αυτή τό  $\hbar^2\omega^2$  από τήν (2) έχουμε

$$M_i^2 c^4 + \gamma^2 M_f^2 v^2 c^2 - \gamma^2 M_f^2 c^4 = 2M_i c^2 \hbar\omega$$

ή

$$M_i^2 c^4 - \gamma^2 M_f^2 c^4 \left(1 - \frac{v^2}{c^2}\right) = 2M_i c^2 \hbar\omega$$

ή επειδή  $\gamma^2 = \frac{1}{1 - \frac{v^2}{c^2}}$ , βρίσκουμε ότι

$$(M_i^2 - M_f^2) c^2 = 2M_i \hbar\omega.$$

Αν δέν είχαμε ανάκρουση, ή συχνότητα  $\omega_c$  τοῦ ἐκπεμπομένου φωτονίου θά ἦταν

$$\omega_c = \frac{(M_i - M_f) c^2}{\hbar}. \quad (3)$$

Αρα όταν έχουμε ανάκρουση, βρίσκουμε στό σύστημα Κ

$$\omega = \frac{(M_i + M_f) \omega_c}{2M_i} \quad (4)$$

Από τήν (3) έχουμε τώρα

$$M_f = M_i - \frac{\omega_c \hbar}{c^2}$$

όποτε αντικαθιστώντας στήν (4) παίρνουμε

$$\omega = \omega_c \left[ 1 - \frac{\omega_c \hbar}{2M_i c^2} \right] \quad (5)$$

β) Ν ἄ τ ρ ι ο: Από τόν πίνακα ἀτομικῶν βαρῶν βρίσκουμε

$$M_i = 22.99 \text{ amu}$$

Από τήν (5) παίρνουμε

$$\frac{\omega_c - \omega}{\omega} = \frac{\omega_c - \omega}{\omega_c} = \frac{\hbar\omega_c}{2M_i c^2}$$

Αφοῦ  $1 \text{ amu} \times c^2 = 9.31 \times 10^8 \text{ eV}$  καί φωτόνιο μέ ἐνέργεια  $1 \text{ eV}$  ἔχει μήκος κύματος  $12938 \text{ \AA}$  καί τό μέσο μήκος κύματος γιά τή διπλή κίτρινη γραμμή τοῦ Na εἶναι  $5893 \text{ \AA}$ , προκύπτει ότι

$$\frac{\omega_c - \omega}{\omega} = 5.13 \times 10^{-11}$$

Α φ ν ι ο: Γιά τόν πυρήνα  ${}_{72}\text{Hf}^{177}$  ἔχουμε:

$$M_i = 178.49 \text{ amu}$$

καί  $\hbar\omega_2 = 113 \text{ keV}$ , όποτε βρίσκουμε ότι:

$$\frac{\omega_1 - \omega}{\omega} \approx 3.40 \times 10^{-7}$$

δηλ. πολύ μεγαλύτερο άπ'ότι στην προηγούμενη περίπτωση του όπτικού φωτονίου.

### Παράδειγμα II-7' Εξαύλωση Ζεύγους ηλεκτρονίου-ποζιτρονίου

Ζεύγος ηλεκτρονίου - ποζιτρονίου πού άρχικά ήρεμοϋν στο σύστημα άναφοράς  $K$ , εξαϋλώνονται σε δύο φωτόνια πού κινούνται κατά μήκος του άξονα τών  $x$ . Θεωρούμε καί ένα άλλο σύστημα άναφοράς  $K'$  πού κινείται ώς πρός τό  $K$  μέ ταχύτητα  $\vec{v}$  πρός τά άριστερά στο σχήμα, κατά μήκος του άξονα τών  $x$ . Νά βρεθεΐ τό μήκος κύματος  $\lambda$  τών φωτονίων πού βλέπει παρατηρητής δκίνητος α) στο σύστημα  $K$  καί β) στο σύστημα  $K'$ .

#### Λύση

α) Άν  $\vec{p}_1$  καί  $\vec{p}_2$  είναι οι όρμές τών δύο φωτονίων, τότε άπό τήν άρχή διατηρήσεως τής όρμης

$$\vec{p}_1 + \vec{p}_2 = 0 \quad (1)$$

προκύπτει ότι  $p_1 = p_2$  καί ότι τά δύο φωτόνια κινούνται πρός αντίθετες κατευθύνσεις. Έπειδή

γενικά  $p = \frac{h}{\lambda}$ , προκύπτει ότι  $\lambda_1 = \lambda_2 = \lambda$ .

Έ άρχή διατηρήσεως τής ενέργειας δίνει

$$2mc^2 = h\nu_1 + h\nu_2$$

Έτσι, εύκολα προκύπτει ότι τό μήκος κύματος τών δύο φωτονίων είναι

$$\lambda = \frac{h}{mc}$$

Ίσο δηλ. μέ τό μήκος κύματος Compton του ηλεκτρονίου.

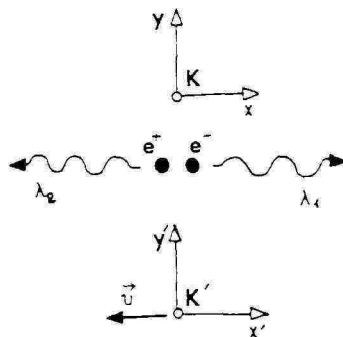
β) Έ άρχή διατηρήσεως τής όρμης στο σύστημα  $K'$  δίνει

$$2\gamma m\vec{u} = \vec{p}'_1 + \vec{p}'_2, \quad \gamma = \frac{1}{\sqrt{1 - \frac{v^2}{c^2}}} \quad (3)$$

ή

$$2\gamma mu = p'_1 - p'_2$$

γιατί καί τά δύο ηλεκτρόνια φαίνονται άπό τό  $K'$  ότι κινούνται μέ



ταχύτητα  $u$  κατά την θετική φορά του άξονα των  $x$  πριν από την εξαύλωση.

Η αρχή διατηρήσεως της ενέργειας δίνει

$$2\gamma mc^2 = p'_1 c + p'_2 c \quad (4)$$

Πολλαπλασιάζοντας την (3) με  $c$  και προσθέτοντάς την στην (4) παίρνουμε

$$p'_1 = \gamma m(c+u) = mc \sqrt{\frac{c+u}{c-u}}$$

ή

$$\lambda'_1 = \frac{h}{hc} \sqrt{\frac{c-u}{c+u}} = \lambda \sqrt{\frac{c-u}{c+u}} < \lambda$$

Όμοια παίρνουμε

$$\lambda'_2 = \lambda \sqrt{\frac{c+u}{c-u}} > \lambda$$

Βρίσκουμε δηλαδή τη σχέση Doppler για ηλεκτρομαγνητικά κύματα.

### Παράδειγμα II-8 «Βαρυτική μάζα» φωτονίου

Η γενική θεωρία της σχετικότητας προβλέπει, και έχει αποδειχθεί πειραματικά, ότι το φως επηρεάζεται από το πεδίο βαρύτητας. Μπορούμε λοιπόν να υποθέσουμε ότι τα φωτόνια έχουν βαρυτική μάζα. Νά υπολογισθεί η "μάζα" ενός φωτονίου με συχνότητα  $\nu$  και η μεταβολή της ενέργειάς του όταν αυτό "πέσει" στο πεδίο βαρύτητας κοντά στην επιφάνεια της γης κατά ένα ύψος  $H$ .

#### Λύση

Η ενέργεια  $E$  ενός φωτονίου με συχνότητα  $\nu$  ισούται προς  $E = h\nu$ . Από τη θεωρία της ειδικής σχετικότητας γνωρίζουμε ότι η αδρανειακή μάζα  $m$  συνδέεται με την ενέργεια με τη σχέση

$$E = mc^2$$

Επομένως η αδρανειακή μάζα  $m$  του φωτονίου θα δίνεται από τη σχέση

$$m = h\nu/c^2.$$

Εξαιτίας του πεδίου βαρύτητας της γης θα εξασκείται λοιπόν στο φωτόνιο μια δύναμη

$$B = m g = gh\nu/c^2$$

Όταν το φωτόνιο πέσει κατά ένα ύψος  $H$  στο πεδίο βαρύτητας θα

κερδίσει ενέργεια ίση με

$$BH = gHh\nu/c^2 \quad \text{ή} \quad \Delta E = gHh\nu/c^2$$

Η αντίστοιχη μεταβολή στη συχνότητά του θα είναι

$$\Delta\nu = \frac{\Delta E}{h} = gH\nu/c^2$$

καί η σχετική μεταβολή

$$\frac{\Delta\nu}{\nu} = \frac{\Delta E}{E} = \frac{gH}{c^2}$$

Αριθμητικό παράδειγμα

$$H = 100 \text{ m} \quad g = 10 \text{ ms}^{-2}$$

$$c = 3 \times 10^8 \text{ ms}^{-1}$$

$$\frac{\Delta\nu}{\nu} = \frac{1000}{9 \times 10^{16}} \approx 10^{-14}$$

Σημείωση

Αλλαγές στη συχνότητα φωτονίων, μέσα στο πεδίο βαρύτητας, έχουν πράγματι παρατηρηθεί πειραματικά με χρήση του φαινομένου Mössbauer.

### Παράδειγμα II-9' Ενέργεια του ηλεκτρονίου στο φαινόμενο Compton

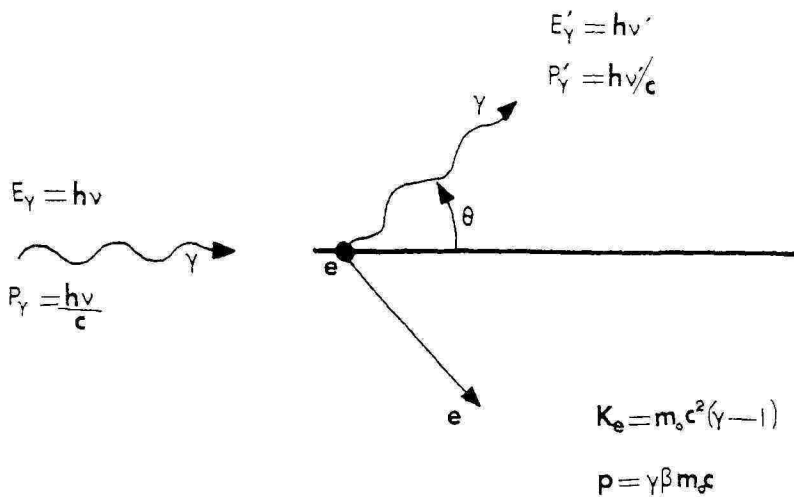
α) Αν  $\theta$  και  $\varphi$  είναι οι γωνίες που σχηματίζουν ή σκεδαζόμενη ακτίνα  $\gamma$  και το ανακρουόμενο ηλεκτρόνιο αντίστοιχως με τη διεύθυνση της αρχικής πορείας της ακτίνας  $\gamma$  κατά τη σκέδαση Compton, νά βρεθεί η σχέση που συνδέει τις γωνίες  $\theta$  και  $\varphi$ .

β) Ποιά είναι η μέγιστη και ποιά η ελάχιστη τιμή της γωνίας  $\varphi$ ;

γ) Ποιά είναι η ενέργεια του ηλεκτρονίου όταν  $\varphi = \varphi_{\max}$ ;

Λύση

α) Τη σκέδαση Compton παριστάνουμε με το επόμενο σχήμα.



Τά διάφορα σύμβολα έχουν τίς παρακάτω σημασίες:

$\nu$  : Συχνότητα προσπίπτοντος φωτονίου

$\nu'$  : Συχνότητα σκεδαζόμενου φωτονίου

$E_\gamma, E'_\gamma$  : Ήνέργεια προσπίπτοντος καί σκεδαζόμενου φωτονίου

$P_\gamma, P'_\gamma$  : Ήρμή προσπίπτοντος καί σκεδαζόμενου φωτονίου

$K_e, p$  : Κινητική ήνέργεια καί όρμή άνακρουόμενου ήλεκτρονίου

$m_0$  : μάζα ήρεμίας ήλεκτρονίου

$\beta = \frac{v}{c}$ ,  $v$  : ταχύτητα ήλεκτρονίου  $\gamma^2 = \frac{1}{1-\beta^2}$

Ή άρχή διατήρησης ήνέργειας γράφεται

$$h\nu + m_0 c^2 = h\nu' + \gamma m_0 c^2 \quad (1)$$

Ή άρχή διατήρησης όρμης μās δίνει

$$\frac{h\nu}{c} = \frac{h\nu'}{c} \cos\theta + \gamma\beta m_0 c \cos\phi \quad (2)$$

$$0 = \frac{h\nu'}{c} \sin\theta - \gamma\beta m_0 c \sin\phi \quad (3)$$

Ήπό τίς (2) καί (3) άφοϋ τίς ύψώσουμε στό τετράγωνο καί τίς προσθέσουμε κατάλληλα παίρνουμε

$$\left(\frac{h\nu}{c}\right)^2 + \left(\frac{h\nu'}{c}\right)^2 - \frac{2h^2}{c^2} \nu\nu' \cos\theta = \beta^2 \gamma^2 m_0^2 c^2$$

$$\eta \quad (h\nu)^2 + (h\nu')^2 - 2h^2 \nu\nu' \cos\theta = \beta^2 \gamma^2 m_0^2 c^4 \quad (4)$$

Από την (1) όμως έχουμε

$$(\gamma-1)^2 m_0^2 c^4 = (h\nu)^2 + (h\nu')^2 - 2h^2\nu\nu' \quad (5)$$

Από τις (4) και (5) παίρνουμε

$$h\nu' = \frac{h\nu}{1+\alpha(1-\cos\theta)} \quad (6)$$

όπου  $\alpha = \frac{h\nu}{m_0 c^2}$

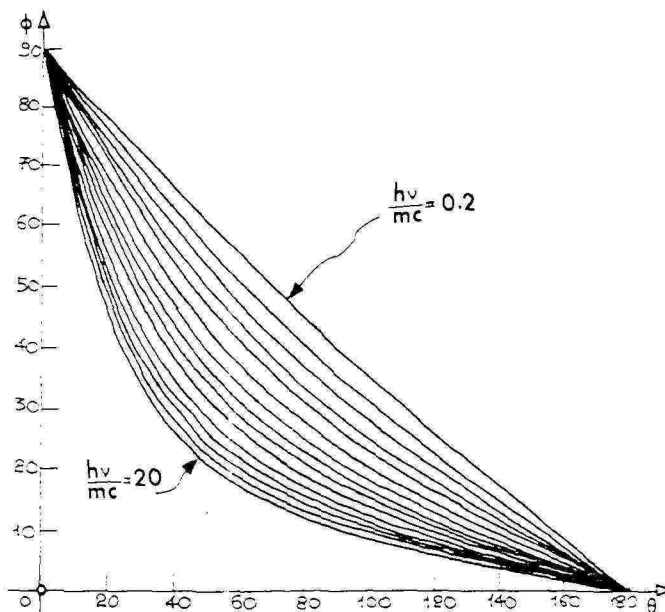
Από τις (2) και (3) έχουμε ακόμα ότι

$$\cot\varphi = \frac{h\nu - h\nu' \cos\theta}{h\nu' \sin\theta}$$

Αντικαθιστούμε από την (6) τό  $h\nu'$  και βρίσκουμε

$$\cot\varphi = \frac{1 - \cos\theta}{\sin\theta} (1+\alpha) = (1+\alpha) \tan \frac{\theta}{2}$$

Η μεταβολή της  $\varphi$  με τη  $\theta$  φαίνεται στο παρακάτω σχήμα.



β) Η μέγιστη γωνία  $\varphi$  αντιστοιχεί στην ελάχιστη γωνία  $\theta$ .

Επομένως

$$\varphi_{\max} = \frac{\pi}{2} \quad \text{για} \quad \theta = 0$$

$$\varphi_{\min} = 0 \quad \text{για} \quad \theta = \pi$$

γ) Για  $\varphi = \varphi_{\max} = \frac{\pi}{2}$  και  $\theta = 0$  ή εξίσωση (4) γράφεται

$$\gamma\beta m_0 c = 0.$$

Έπεται ότι  $\beta=0$  και  $\gamma=1$  δηλαδή η κινητική ενέργεια του ηλεκτρονίου είναι μηδέν.

### Παράδειγμα II-10' Ακτινοβολία Cerenkov

Η σχέση  $p=h/\lambda$  μεταξύ της όρμης  $p$  ενός φωτονίου και του μήκους κύματος  $\lambda$  ισχύει και μέσα σ' ένα διηλεκτρικό μέσο με δείκτη διάθλασης  $n$  υπό τη μορφή  $p=h/\lambda'$ , όπου  $\lambda'=\lambda/n$ .

Δείξτε ότι μόνον αν η ταχύτητα  $u$  ενός ηλεκτρονίου μέσα στο διηλεκτρικό είναι μεγαλύτερη από  $c/n$  δηλ. από τη φασική ταχύτητα του φωτός στο μέσο αυτό, μπορεί το ηλεκτρόνιο να ακτινοβολήσει ένα φωτόνιο κατά την διαδικασία (ακτινοβολία Cerenkov):

$$e \rightarrow e + \gamma$$

Υπόδειξη: Χρησιμοποιείτε τη διατήρηση της ολικής όρμης και ενέργειας κατά την αντίδραση  $e \rightarrow e + \gamma$ .

### Λύση

Έστω  $\vec{p}_1$  και  $\vec{p}_2$  η αρχική και η τελική όρμη του ηλεκτρονίου και  $\vec{q}$  η όρμη του εκπεμπόμενου φωτονίου (βλέπε σχήμα).

Οι σχέσεις που εκφράζουν τη διατήρηση της όρμης και της ενέργειας κατά την ακτινοβολία  $e \rightarrow e + \gamma$  είναι

$$\vec{p}_1 = \vec{p}_2 + \vec{q} \quad (1)$$

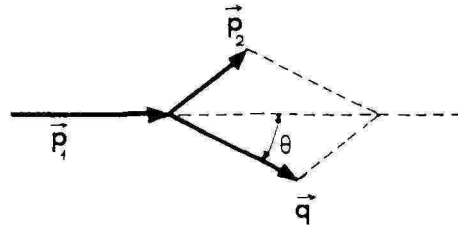
$$\sqrt{m^2 c^4 + p_1^2 c^2} = \sqrt{m^2 c^4 + p_2^2 c^2} + qc/n \quad (2)$$

Στην έξ. (2) ο όρος  $qc/n$  είναι η ενέργεια του φωτονίου. Πραγματικά οι σχέσεις  $q=h/\lambda' = hn/\lambda$  και  $E=hn = hc/\lambda$  δίνουν  $E=qc/n$ .

Υψώνοντας την (2) στο τετράγωνο, αντικαθιστώντας  $\vec{p}_2 = \vec{p}_1 - \vec{q}$ , και λύνοντας ως προς το συνημίτονο της γωνίας  $\theta$ , μεταξύ  $\vec{p}_1$  και  $\vec{q}$  έχουμε:

$$\cos\theta = \frac{q}{2p_1} \left(1 - \frac{1}{n^2}\right) + \frac{1}{n} \sqrt{1 + \left(\frac{mc}{p_1}\right)^2} \quad (3)$$

Για να είναι δυνατή η διαδικασία  $e \rightarrow e + \gamma$ , πρέπει το δεξιό μέλος της (3) να γίνεται μικρότερο της μονάδας για κάποια τιμή



του  $q$ . Άρκεϊ λοιπόν (υποθέτουμε  $n > 1$ ) νά έχουμε

$$\frac{1}{n} \sqrt{1 + \left(\frac{mc}{p_1}\right)^2} \leq 1$$

Άπό τήν παραπάνω άνισόττητα έχουμε ένα κάτω φράγμα για τήν άρχική ταχύτητα  $v$  του ήλεκτρονίου:

$$v = \frac{p_1 c}{\sqrt{p_1^2 c^2 + m^2 c^4}} \geq \frac{c}{n}$$

Άρα τό φαινόμενο αυτό μπορεί νά συμβεί μόνο όταν ή ταχύτητα του ήλεκτρονίου είναι μεγαλύτερη άπό τή φασική ταχύτητα του φωτός στό διηλεκτρικό.

Σημ. Παρόμοια συμπεράσματα προκύπτουν καί μέ βάση τήν κλασική ήλεκτρομαγνητική θεωρία.

### Παράδειγμα II-11 Όμαδική ταχύτητα κύματος de Broglie

Δείξτε ότι ή ταχύτητα  $v$  όποιοιδήποτε ελεύθερου σωματιδίου μέ μάζα  $m$  συμπίπτει μέ τήν όμαδική ταχύτητα του άντίστοιχου κύματος de Broglie. Δείξτε έπίσης ότι ή φασική ταχύτητα του κύματος αυτού είναι μεγαλύτερη άπό  $c$ .

#### Λύση

Ή ενέργεια  $E$  του σωματιδίου είναι

$$E = \sqrt{(mc^2)^2 + (cp)^2} = \hbar\omega \quad (1)$$

όπου  $p$  ή όρμη του σωματιδίου καί  $\omega$  ή συχνότητα του άντιστοιχου κύματος. Άλλά

$$p = \hbar k$$

όπου  $k$  τό μέτρο του κυματικού διανύσματος του άντίστοιχου κύματος' άρα θά έχουμε ότι

$$\omega = \sqrt{\left(\frac{mc^2}{\hbar}\right)^2 + c^2 k^2} \quad (2)$$

Αυτή είναι ή σχέση διασποράς του κύματος που άντιστοιχεί στό κινούμενο σωματίδιο.

Ή όμαδική ταχύτητα του κύματος αυτού είναι

$$v_g = \frac{d\omega}{dk} = \frac{c^2 k}{\omega} = \frac{c^2 \hbar k}{E} = \frac{c^2 p}{E}$$



Άλλά  $p = \gamma m u$  και  $E = \gamma m c^2$ , όπου  $\gamma = \frac{1}{\sqrt{1 - \frac{u^2}{c^2}}}$ , τότε ισχύει

$$u_g = u$$

Η φασική ταχύτητα του κύματος de Broglie είναι

$$v_\phi = \frac{\omega}{k} = \frac{\sqrt{\left(\frac{mc^2}{\hbar}\right)^2 + c^2 k^2}}{k} = \sqrt{\left(\frac{mc^2}{p}\right)^2 + c^2}$$

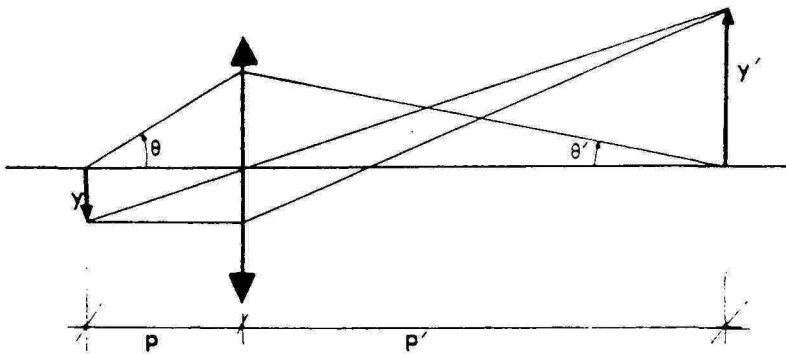
πού είναι προφανώς μεγαλύτερη της  $c$  για σωματίδια με μάζα  $m$ .

### Παράδειγμα II-12 Διακριτική ικανότητα ηλεκτρονικού μικροσκοπίου

α) Το αριθμητικό άνοιγμα του αντικειμενικού συστήματος ενός ηλεκτρονικού μικροσκοπίου είναι  $5 \times 10^{-3}$  rad. Ποιά θά πρέπει να είναι η ελάχιστη κινητική ενέργεια  $E$  των ηλεκτρονίων ώστε να μπορεί το μικροσκόπιο να διακρίνει αντικείμενα διαστάσεων  $d = 0.1 \text{ \AA}$ ; (Σημείωση: Το αριθμητικό άνοιγμα ενός οπτικού συστήματος είναι το γινόμενο του δείκτη διάθλασης  $n$  του φακού εισόδου, επί τό ημίτονο της γωνίας του κώνου πού έχει κορυφή ένα σημείο του αντικειμένου και βάση τήν περιφέρεια του φακού).

β) Ποιά πρέπει να είναι η αντίστοιχη ενέργεια των φωτονίων ώστε ένα οπτικό μικροσκόπιο με αριθμητικό άνοιγμα ίσο με 1.45 να έχει τήν ίδια διακριτική ικανότητα;

**Λύση**



α) Η διακριτική ικανότητα ενός φακού σύμφωνα με τό κριτήριο του Rayleigh δίνεται από τή σχέση

$$R = 1.22 \frac{\lambda}{D}$$

όπου  $\lambda$  τό μήκος κύματος και  $D$  ή διάμετρος του φακού.

Γιά συνηθισμένο φακό έχουμε

$$n y \sin \theta = y' \sin \theta'$$

όπου  $n$  ο δείκτης διάθλασης του φακού,  $y$  τό μέγεθος του αντικει-

ματος de Broglie πού αντιστοιχεί στά ηλεκτρόνιά της νά είναι πολύ μικρότερο από τή χαρακτηριστική γεωμετρική διάσταση του προβλήματος, δηλ. τή σταθερά πλέγματος (πρβλ. μέ τό όριο ισχύος τής γεωμετρικής οπτικής για ηλεκτρομαγνητικά κύματα). Έπομένως, αν  $p$  είναι ή όρμή καθενός ηλεκτρονίου τής δέσμης, θά πρέπει

$$\frac{h}{p} = \lambda \ll a \quad \eta \quad pc \gg 2\pi h c / a \equiv p_j c \approx 5 \text{ keV.}$$

Άφου στό όριο  $p=p_j$ , έχουμε

$$p_j c \approx 5 \text{ keV} \ll m_e c^2 \approx 500 \text{ keV,}$$

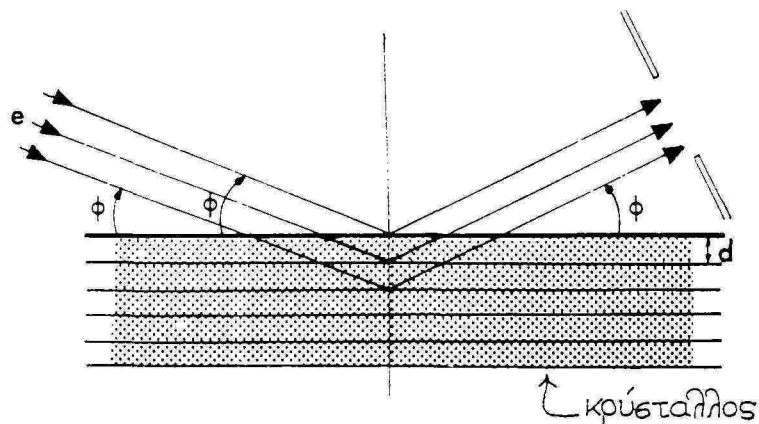
για τήν εύρεση αυτού του όριου άρκει ή χρήση τής μή σχετικιστικής μηχανικής. Έπομένως,

$$eV = \frac{p^2}{2m_e} = \frac{(pc)^2}{2m_e c^2} \gg \frac{25}{1000} \text{ keV,}$$

όποτε  $V \gg 25 \text{ Volt}$  ή π.χ.  $V > 250 \text{ Volt}$ .

#### Παράδειγμα II-14

Δέση ηλεκτρονίων μέ κινητική ενέργεια  $E_k$  πέφτει στην επίπεδη επιφάνεια κρυστάλλου υπό γωνία  $\phi = 30^\circ$ . Οι άποστάσεις μεταξύ διαδοχικών επιπέδων του κρυσταλλικού πλέγματος είναι  $d = 5 \times 10^{-4} \text{ m}$ . Μετά τή σκέδασή τους από τον κρύσταλλο τά ηλεκτρόνια περνούν από σχισμή, όπως φαίνεται στό σχήμα. Για ποιές τιμές τής ενέργειας  $E_k$  έχει μέγιστα ό αριθμός των ηλεκτρονίων πού περνούν από τή σχισμή ανά μονάδα χρόνου;



**Λύση**

Τό μήκος κύματος  $\lambda$  τών ηλεκτρονίων μέ όρμή  $p$  δίνεται από τή σχέση

$$\lambda = \frac{h}{p}$$

Ἡ όρμή τών ηλεκτρονίων υπολογίζεται από τή σχέση

$$E^2 = m^2 c^4 + p^2 c^2 = (E_K + mc^2)^2$$

δηλαδή

$$p = \frac{1}{c} \sqrt{E_K (E_K + 2mc^2)}$$

Ἐπομένως

$$\lambda = \frac{hc}{\sqrt{E_K (E_K + 2mc^2)}}$$

Ἡ σκέδαση τών ηλεκτρονίων διέπεται από τό νόμο τοῦ Bragg, παρουσιάζονται δηλαδή μέγιστα στήν σκεδαζόμενη δέσμη όταν

$$n\lambda = 2d \sin\varphi$$

όπου  $n=1, 2, \dots$

Ἀπό τή συνθήκη αὐτή προκύπτει ὅτι

$$\frac{nhc}{\sqrt{E_K (E_K + 2mc^2)}} = 2d \sin\varphi$$

ἢ

$$E_K = \sqrt{m^2 c^4 + \left( \frac{nhc}{2d \sin\varphi} \right)^2} - mc^2$$

Ἐχοῦμε

$$mc^2 = 0.511 \text{ MeV} \quad \text{καί} \quad hc = 1.24 \times 10^{-12} \text{ MeV}\cdot\text{m}$$

Ἀντικαθιστοῦμε τό  $\sin\varphi$  μέ τήν τιμή τοῦ  $1/2$  καί παίρνομε τίσ ζητούμενες ἐνέργειες βάζοντας  $n=1, 2, 3, \dots$

$n=1$	$E_K = 601.4 \text{ eV}$	
$n=2$	$E_K = 2401.6 \text{ eV}$	
$n=3$	$E_K = 5387.8 \text{ eV}$	
$n=4$	$E_K = 9539.8 \text{ eV}$	κτλ.

**Παράδειγμα II-15**

Ἡ μορφή τοῦ κυματοπακέτου ἑνός ἐλεύθερου σωματιδίου μέ μάζα  $m$ , ποῦ διαδίδεται κατά τή διεύθυνση  $x$ , δίνεται από τήν κυματική συνάρτηση

$$\Psi(x, t) = \frac{1}{\sqrt{2\pi}} \int_{-\infty}^{\infty} a(k) e^{i(kx - \omega t)} dk$$

Δηλαδή τό κυματοπακέτο είναι υπέρθεση επίπεδων κυμάτων τής μορφής  $e^{i(kx-\omega t)}$ .  
 Άν ή  $\psi(x,t)$  ίκανοποιεί τήν εξίσωση Schrödinger για τυχόντα  $a(k)$  νά βρεθεί ή σχέση διασποράς αὐτῶν τῶν κυμάτων καί ἀπό αὐτή ή σχέση πού συνδέει τήν ταχύτητα φάσης  $u_\phi$  μέ τήν ταχύτητα ομάδας  $u_g$  τοῦ κυματοπακέτου.

β) Ἀπό τήν ἀνισότητα  $u_g \neq u_\phi$  προκύπτει ὅτι τό κυματοπακέτο παθαίνει διασπορά καθώς διαδίδεται στόν ἐλεύθερο χώρο. Τό φῶς ὅμως δέν παθαίνει διασπορά στό κενό. Πῶς συμβιβάζεται αὐτό μέ τό γεγονός ὅτι τό φῶς ἀποτελεῖται ἀπό ἐλεύθερα φωτόνια;

### Λύση

α) Για ἓνα ἐλεύθερο σωματίδιο ή εξίσωση Schrödinger γράφεται

$$-\frac{\hbar^2}{2m} \frac{\partial^2 \psi(x,t)}{\partial x^2} = i\hbar \frac{\partial \psi(x,t)}{\partial t}$$

Ἀφοῦ ή εξίσωση αὐτή ἐπαληθεύεται ἀπό τήν  $\psi(x,t)$  πού εἶναι ἐπαλληλία ἐπίπεδων κυμάτων μέ αὐθαίρετο πλάτος  $a(k)$ , θά πρέπει νά ἐπαληθεύεται για ὅποιοδήποτε κύμα τής μορφῆς

$$\varphi(x,t) = e^{i(kx-\omega t)}$$

Μέ ἀντικατάσταση στήν εξίσωση Schrödinger βρίσκουμε τή σχέση διασποράς

$$\frac{\hbar^2 k^2}{2m} = \hbar\omega \quad \eta \quad \omega = \frac{\hbar k^2}{2m} = \frac{E}{\hbar} \quad (1)$$

ὅπου  $E$  ή ἐνέργεια τοῦ σωματιδίου.

Ἡ ταχύτητα φάσης εἶναι

$$u_\phi = \frac{\omega}{k} = \frac{\hbar k}{2m}$$

καί ή ταχύτητα ομάδας

$$u_g = \frac{d\omega}{dk} = \frac{\hbar k}{m}$$

Ἐπομένως ή σχέση πού συνδέει τίς δύο ταχύτητες εἶναι

$$u_\phi = \frac{1}{2} u_g$$

β) Ἐπειδή ή μάζα ἠρεμίας τῶν φωνονίων εἶναι μηδέν, ή σχέση μεταξύ ὁρμῆς  $p$  καί ὀλικῆς ἐνέργειας  $E$  δίνεται ἀπό τή σχέση

$$E = cp$$

Ἐχουμε ὅμως ὅτι  $E = \hbar\omega$  καί  $p = \hbar k$  ὁπότε για τά φωτόνια ή σχέση διασποράς εἶναι ή

$$\omega = ck$$

όπου  $c$  ή ταχύτητα του φωτός.

Συμπεραίνουμε ότι

$$v_g = v_\phi = c$$

καί γι' αυτό τά φωτόνια δέν παθαίνουν διασπορά.

### Παράδειγμα II-16

Χρησιμοποιώντας την αρχή της άβεβαιότητας εκτιμήστε (σε eV) την τάξη μεγέθους του ελάχιστου βάθους  $V_0$  που θα πρέπει να έχει ένα πηγάδι δυναμικού μέ πλάτος  $L=1\text{\AA}$  ώστε να κρατάει δέσμιο α) ένα ηλεκτρόνιο καί β) ένα πρωτόνιο.

### Λύση

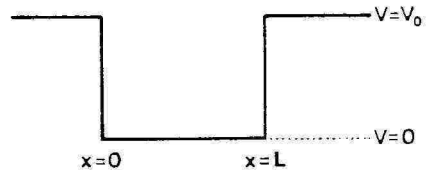
Η άβεβαιότητα στή θέση είναι

$$\Delta x = L$$

καί στήν όλική ενέργεια  $\Delta E = \frac{(\Delta p)^2}{2m}$   
 όπου  $V=0$  όταν  $0 < x < L$ .

Άρα, επειδή  $\Delta x \cdot \Delta p \geq \hbar$ , θα έχουμε:

$$\Delta E \geq \frac{\hbar^2}{2m(\Delta x)^2} = \frac{\hbar^2}{2mL^2}$$



Τό ελάχιστο βάθος δυναμικού έπομένως θα είναι

$$V_0 = \frac{\hbar^2}{2mL^2}$$

Αντικαθιστώντας τίς αριθμητικές τιμές, βρίσκουμε αντίστοιχα:

$$\alpha) V_0 = \frac{1.05^2 \times 10^{-68} \text{ J}^2 \text{ s}^2}{2 \times 9.11 \times 10^{-31} \text{ kg} \times 10^{-20} \text{ m}^2} = 6.05 \times 10^{-19} \text{ J} \approx 4 \text{ eV}$$

$$\beta) V_0 = \frac{1.05^2 \times 10^{-68}}{2 \times 1.67 \times 10^{-27} \times 10^{-20}} \text{ J} = 3.30 \times 10^{-22} \text{ J} \approx 2 \times 10^{-3} \text{ eV}.$$

Δηλαδή τό ελάχιστο βάθος δυναμικού πού χρειάζεται για τό πρωτόνιο, είναι πολύ μικρότερο από αυτό πού χρειάζεται για τό ηλεκτρόνιο.

### Παράδειγμα II-17

Για να δοῦμε ένα αντικείμενο πρέπει να το φωτίσουμε με φῶς πού το μήκος κύματός του να είναι μικρό σε σχέση με τις διαστάσεις του αντικειμένου. Για να "δοῦμε" (στήν προκειμένη περίπτωση να μετρήσουμε) π.χ. τις αποστάσεις τῶν ατόμων ἢ μορίων σε ένα κρύσταλλο πρέπει να χρησιμοποιήσουμε ἀκτίνες X με μήκος κύματος τάξεως  $10^{-10}$  m. Για να μετρήσουμε τις διαστάσεις τῶν πυρήνων πού είναι τῆς τάξης  $10^{-15}$  m, χρῆσιμοποιοῦμε μιὰ δέσμη πρωτονίων πού σκεδάζεται ἀπό τούς πυρήνες. Ποιά είναι ἡ ελάχιστη ἐνέργεια τῶν πρωτονίων τῆς δέσμης πού πρέπει να χρησιμοποιηθεῖ;

### Λύση

Ἡ ἐνέργεια τῶν πρωτονίων τῆς δέσμης πρέπει να είναι τέτοια ὥστε το μήκος κύματός τους κατά de Broglie να ἔχει τήν τάξη μεγέθους τῶν πυρήνων.

$$\lambda = \frac{h}{p} \approx 10^{-15} \text{ m}$$

ὅπου  $p$  ἡ ὄρμη τοῦ πρωτονίου.

Ἡ κίνητικὴ ἐνέργεια τοῦ πρωτονίου δίνεται ἀπὸ τὴ σχέση

$$T = \sqrt{m^2 c^4 + p^2 c^2} - mc^2$$

ὅπου  $m$  ἡ μάζα τοῦ πρωτονίου.

Κάνουμε τὴν ἀντικατάσταση

$$p = \frac{h}{\lambda}$$

καὶ βρίσκουμε

$$T = \sqrt{m^2 c^4 + h^2 c^2 / \lambda^2} - mc^2$$

Ἔχουμε ὅμως

$$mc^2 = 932.8 \text{ MeV}$$

$$hc = 1.24 \times 10^{-12} \text{ MeV m}$$

καὶ

$$\lambda_p \approx 10^{-15} \text{ m}$$

Βρίσκουμε τελικά

$$T \approx 620 \text{ MeV.}$$

### Παράδειγμα II-18

Ἄς υποθέσουμε ὅτι μπορούμε να δοῦμε με ένα μικροσκόπιο τὰ σωματίδια τῆς σκόνης πού αἰωροῦνται σε ένα δωμάτιο. Τό μικροσκόπιο αὐτό δέν μπορεῖ να διακρίνει ἀντικείμενα με διάμετρο μικρότερη ἀπὸ  $d = 0,1 \mu\text{m}$ . Ἡ πυκνότητα τῶν σω-

ματιδίων της σκόνης είναι  $\rho = 2 \text{ gr cm}^{-3}$  και η άβεβαιότητα με την οποία μπορεί να καθορισθεί η θέση ενός σωματιδίου είναι  $\Delta x = d/100$ . Νά υπολογισθεί η μεγαλύτερη ακρίβεια με την οποία μπορεί να μετρηθεί η ταχύτητα των σωματιδίων της σκόνης που μόλις διακρίνονται από το μικροσκόπιο.

### Λύση

Έχουμε ότι

$$\Delta x \cdot \Delta p_x \geq h.$$

όπου  $p_x$  ή συνιστώσα της όρμης ενός σωματιδίου κατά τη διεύθυνση  $x$ .

Άλλά

$$p_x = mv_x \quad \text{και} \quad \Delta p_x = m \Delta v_x$$

όπου  $v_x$  ή συνιστώσα της ταχύτητας του σωματιδίου κατά τη διεύθυνση  $x$ .

Η μάζα ενός σωματιδίου που μόλις μπορεί να διακριθεί είναι

$$m = \rho V = \rho \left[ \frac{4}{3} \pi \left( \frac{d}{2} \right)^3 \right] = \frac{\pi \rho d^3}{6}$$

Άρα

$$\Delta v_x \geq \frac{\delta h}{\pi \rho d^3 \Delta x}$$

Η μεγαλύτερη ακρίβεια στη μέτρηση της ταχύτητας  $v_x$  αντιστοιχεί στην ελάχιστη άβεβαιότητα της, όποτε την παραπάνω σχέση για την  $\Delta v_x$  την παίρνουμε ως ισότητα.

Όταν αντικαταστήσουμε τις τιμές βρίσκουμε

$$\Delta v_x \approx 1.2 \times 10^{-5} \text{ ms}^{-1}$$

### Παράδειγμα II-19 Άτομο Ήλιου

Τό άτομο του ήλιου αποτελείται από ένα πυρήνα που έχει μάζα  $M$  και φορτίο  $2e$  και από δύο ηλεκτρόνια που έχουν αποστάσεις  $r_1$  και  $r_2$  από τον πυρήνα, μάζα  $m$  και φορτίο  $e$ .

α) Νά γραφεί η σχέση που δίνει την ενέργεια του συστήματος συναρτήσει των  $r_1, r_2$ , των όρμών των ηλεκτρονίων  $p_1$  και  $p_2$  και της απόστασης  $r_{12}$  των δύο ηλεκτρονίων. Νά θεωρηθεί ότι  $M \rightarrow \infty$

β) Νά θεωρηθεί ότι η άβεβαιότητα στην όρμη των δύο ηλεκτρονίων είναι  $\Delta p_1 = p_1$  και  $\Delta p_2 = p_2$  και η άβεβαιότητα στη θέση τους είναι ίση με  $\Delta r_1 = R_1$  και  $\Delta r_2 = R_2$  όπου  $R_1$  και  $R_2$  οι αποστάσεις των ηλεκτρονίων στη χαμηλότερη ενέργεια του συστήματος (θεμελιώδη κατάσταση). Νά εφαρμοσθεί η αρχή της άβεβαιότητας και νά προσδιορισθεί η ενέργεια της θεμελιώδους κατάστασης. (Σημείωση: στη θεμελιώδη κατάσταση τά ηλεκτρόνια βρίσκονται σε συμμετρικές θέσεις ως προς τον πυρήνα).

Τό πλάτος  $A$  καθορίζει τα όρια της κλασικά επιτρεπόμενης περιοχής για τον αρμονικό ταλαντωτή. Η απαγορευμένη περιοχή είναι ή  $|x| > A$ .

Κατά την κβαντομηχανική ή πιθανότητα νά βροϋμε ένα σωματίδιο στό διάστημα  $(x, x+dx)$  είναι  $|\psi(x)|^2 dx$ . Άρα ή πιθανότητα νά βρεθεί τό σωματίδιο στό διάστημα  $(-A, A)$  είναι

$$P(-A, A) = \int_{-A}^A |\psi|^2 dx = 2 \int_0^A |\psi|^2 dx$$

Έπομένως ή πιθανότητα νά βρεθεί τό σωματίδιο στόν κλασικά απαγορευμένη περιοχή  $|x| > A$  είναι

$$P(|x| > A) = 1 - 2 \int_0^A |\psi|^2 dx = 1 - \frac{2}{\sqrt{\pi}A} \int_0^A e^{-\frac{x^2}{A^2}} dx$$

Άν κάνουμε τήν αντικατάσταση

$$\frac{x^2}{A^2} = \frac{2mE_0}{\hbar^2} x^2 = y^2$$

καταλήγουμε στή σχέση

$$P(x > A) = 1 - \frac{2}{\sqrt{\pi}} \int_0^1 e^{-y^2} dy$$

Κάνοντας χρήση του προσεγγιστικού τύπου βρίσκουμε

$$P(x > A) = 0.16.$$

### Παράδειγμα II-21

Η κυματική συνάρτηση του ηλεκτρονίου στή θεμελιώδη κατάσταση του ατόμου του υδρογόνου είναι ή

$$\psi(x, y, z) = (\pi a_0^3)^{-1/2} e^{-\frac{r}{a_0}} \quad (r = \sqrt{x^2 + y^2 + z^2})$$

όπου  $a_0 \approx 0.5 \text{ \AA}$  ή ακτίνα Bohr του υδρογόνου.

α) Νά υπολογισθεί ή πιθανότητα  $P$  νά βρεθεί τό ηλεκτρόνιο στό έσωτερικό μιās μικρής σφαίρας μέ κέντρο τό σημείο  $r=0$  καί ακτίνα  $r_0 = 0.05 \text{ \AA}$ .

β) Νά υπολογισθεί ή πιθανότητα νά βρεθεί τό ηλεκτρόνιο στό χώρο πού έχει κέντρο τό σημείο  $r=0$  καί ακτίνα  $a_0$ .

(Ό στοιχειώδης όγκος,  $dV$ , σέ σφαιρικές συντεταγμένες είναι

$$dV = r^2 \sin\theta d\theta d\phi dr.$$

Άκόμα,

$$\int x^2 e^{\lambda x} dx = \frac{x^2 e^{\lambda x}}{\lambda} - \frac{2}{\lambda^2} x e^{\lambda x} + \frac{2e^{\lambda x}}{\lambda^3}$$



**Λύση**

α) Ἡ πιθανότητα νά βρίσκεται τό ἠλεκτρόνιο σέ κάποιο στοιχειώδη ὄγκο  $dV$  σέ ἀπόσταση  $r$  εἶναι ἴση μέ

$$dP = |\psi(r)|^2 dV = |\psi(r)|^2 r^2 \sin\theta d\theta dr d\phi$$

Ἡ πιθανότητα  $P$  νά βρίσκεται τό ἠλεκτρόνιο στή σφαῖρα μέ κέντρο τό σημεῖο  $r=0$  καί ἀκτίνα  $r_0$  εἶναι ἴση μέ

$$\begin{aligned} P &= \int_0^{r_0} \int_0^{2\pi} \int_0^\pi \psi^2 r^2 \sin\theta d\theta d\phi dr \\ &= 4\pi \int_0^{r_0} \frac{1}{\pi a_0^3} e^{-2r/a_0} r^2 dr \\ &= \frac{4}{a_0^3} \left( -\frac{a_0 r_0^2}{2} - \frac{a_0^2}{2} r_0 - \frac{a_0^3}{4} \right) e^{-2r_0/a_0} + 1 \\ &= 1 - \left( 1 + \frac{2r_0}{a_0} + \frac{2r_0^2}{a_0^2} \right) e^{-2r_0/a_0} \approx 0.001. \end{aligned}$$

β) Ἡ πιθανότητα νά βρίσκεται τό ἠλεκτρόνιο σέ σφαῖρα ἀκτίνας  $a_0$  εἶναι

$$P = 1 - (1 + 2 + 2) e^{-2} = 0.32$$

**Παράδειγμα II-22**

Σωματίδιο κινεῖται πάνω στόν ἄξονα  $x$ . Σέ κάποια χρονική στιγμή ἡ κυματοσυνάρτησή του ἔχει τή μορφή

$$\psi(x) = b e^{-|x-x_0|/a} \quad (a > 0),$$

ὅπου  $x_0$  καί  $a$  εἶναι δοσμένες παράμετροι μέ διαστάσεις μήκους.

α) Ποιά πρέπει νά εἶναι ἡ ἀπόλυτη τιμὴ τοῦ  $b$  ὥστε ἡ  $|\psi(x)|^2$  νά εἶναι μιὰ κατανομή πιθανότητας, δηλ. ἡ  $\psi(x)$  νά εἶναι κανονικοποιημένη; (Βρεῖτε τήν τιμὴ αὐτὴ τοῦ  $|b|$  συναρτήσει τοῦ  $a$ ).

β) Ἄν γίνουν πολλές μετρήσεις τῆς συντεταγμένης  $x$  σωματιδίων πού ἔχουν κυματοσυνάρτηση ἴδια μέ τὴν παραπάνω, ποιά θά εἶναι ἡ μέση τιμὴ τῆς  $x$ ; τοῦ  $x^2$ ; Ποιά εἶναι ἡ τυπικὴ ἀπόκλιση;

γ) Ὑπολογίστε τὴν πιθανότητα νά βρεθεῖ τό σωματίδιο στό διάστημα  $(x_0 - a, x_0 + a)$ .

**Λύση**

α) Γιά νά εἶναι ἡ  $\psi(x)$  κανονικοποιημένη πρέπει τό ὅλοκλή -

ρομα τῆς πυκνότητας πιθανότητας  $|\psi(x)|^2$  πάνω σ' ὅλο τὸν ἄξονα τῶν  $x$  νά ἰσοῦται μέ τή μονάδα. Ἴσρα

$$\begin{aligned} 1 &= \int_{-\infty}^{\infty} dx |\psi(x)|^2 = |b|^2 \int_{-\infty}^{\infty} dx e^{-2|x-x_0|/a} \\ &= |b|^2 \left[ \int_{-\infty}^{x_0} dx e^{-2(x_0-x)/a} + \int_{x_0}^{\infty} dx e^{-2(x-x_0)/a} \right] = |b|^2/a \end{aligned}$$

Πρέπει λοιπόν τό  $|b|$  νά ἔχει τήν τιμή  $\sqrt{a}$ .

β) Ἡ μέση τιμή τῆς συνεταγμένης  $x$  εἶναι

$$\begin{aligned} \langle x \rangle &= \int_{-\infty}^{\infty} dx x |\psi(x)|^2 = |b|^2 \int_{-\infty}^{\infty} dx x e^{-2|x-x_0|/a} \\ &= |b|^2 \int_{-\infty}^{\infty} dx' (x' + x_0) e^{-2|x'|/a} = x_0 \end{aligned}$$

Ἐπίσης

$$\begin{aligned} \langle x^2 \rangle &= \int_{-\infty}^{\infty} dx x^2 |\psi(x)|^2 = |b|^2 \int_{-\infty}^{\infty} dx x^2 e^{-2|x-x_0|/a} \\ &= |b|^2 \int_{-\infty}^{\infty} dx' (x' + x_0)^2 e^{-2|x'|/a} = |b|^2 \int_{-\infty}^{\infty} dx' (x'^2 + x_0^2) e^{-2|x'|/a} \\ &= 4a^2 + x_0^2. \end{aligned}$$

Ἐπομένως  $\Delta x \equiv \langle (x - \langle x \rangle)^2 \rangle^{1/2} = \sqrt{\langle x^2 \rangle - \langle x \rangle^2} = 2a$

γ) Ἡ ζητούμενη πιθανότητα εἶναι τό ὀλοκλήρωμα τῆς  $|\psi(x)|^2$  ἀπό  $x_0 - a$  μέχρι  $x_0 + a$  δηλαδή:

$$|b|^2 \int_{x_0-a}^{x_0+a} dx e^{-2|x-x_0|/a} = 2|b|^2 \int_0^a dx' e^{-2x'/a} = 1 - \frac{1}{e^2} = 0.63$$

### Παράδειγμα II-23

Ἡ κυματοσυνάρτηση στό χωρο τῶν ὀρμῶν ἑνός σωματιδίου, πού κινεῖται σέ μιὰ διάσταση (π.χ. πάνω στόν ἄξονα  $x$ ), εἶναι

$$C(p) = Ae^{-a|p-p_0|/\hbar}$$

α) Βρεῖτε τήν ἀντίστοιχη συνήθη κυματοσυνάρτηση  $\psi(x)$ .

β) Ἐκτιμῆστε τίς τυπικές ἀποκλίσεις  $\Delta p$  καί  $\Delta x$  τῆς ὀρμῆς  $p$  καί τῆς συνεταγμένης  $x$  καί δεῖξτε ὅτι τό γινόμενο,  $(\Delta p) \cdot (\Delta x)$  εἶναι τῆς τάξης τοῦ  $\hbar$  ἢ ἀνέξαρτα ἀπό τίς τιμές τῶν παραμέτρων  $a$  καί  $p_0$ .

## Λύση

α) Ή ψ(x) δίνεται από τό ολοκλήρωμα

$$\psi(x) = \int_{-\infty}^{\infty} C(p) e^{ipx/\hbar} dp = A \int_{-\infty}^{\infty} e^{-\alpha|p-p_0|/\hbar + ipx/\hbar} dp$$

πού υπολογίζεται εύκολα αν χωρίσουμε τό διάστημα ολοκλήρωσεως στά  $(-\infty, p_0)$  καί  $(p_0, +\infty)$ , στά όποια ή διαφορά  $p_1 - p_0$  έχει καθορισμένο πρόσημο:

$$\begin{aligned} \psi(x) &= A e^{-\alpha p_0/\hbar} \int_{-\infty}^{p_0} e^{(\alpha+ix)p/\hbar} dp + A e^{\alpha p_0/\hbar} \int_{p_0}^{\infty} e^{(-\alpha+ix)p/\hbar} dp = \\ &= \frac{\hbar A}{\alpha+ix} e^{ip_0 x/\hbar} - \frac{\hbar A}{-\alpha+ix} e^{ip_0 x/\hbar} = \frac{2\alpha A \hbar}{\alpha^2+x^2} e^{ip_0 x/\hbar} \end{aligned}$$

β) Άρκει νά βρούμε τίς μέσες τιμές τών  $x, x^2$  καί τών  $p$  καί  $p^2$ . Προσδιορίζουμε πρώτα τήν τιμή του  $|A|$  έτσι ώστε ή  $\psi(x)$  νά είναι κανονικοποιημένη:

$$1 = \int_{-\infty}^{\infty} dx |\psi(x)|^2 = |2\alpha A \hbar|^2 \int_{-\infty}^{\infty} \frac{dx}{(\alpha^2+x^2)^2} = \frac{2\pi \hbar^2}{\alpha} |A|^2$$

Μπορούμε δηλ. νά θέσουμε  $A = (\alpha/2\pi \hbar^2)^{1/2}$  καί νά έχουμε

$$\psi(x) = \left( \frac{2\alpha^3}{\pi} \right)^{1/2} \frac{e^{ip_0 x/\hbar}}{\alpha^2+x^2}$$

Γιά τή μέση τιμή του  $x$  βρίσκουμε

$$\langle x \rangle = \int_{-\infty}^{\infty} x |\psi(x)|^2 dx = \frac{2\alpha^3}{\pi} \int_{-\infty}^{\infty} \frac{x dx}{\alpha^2+x^2} = 0$$

καί για τή μέση τιμή του  $x^2$ ,

$$\langle x^2 \rangle = \int_{-\infty}^{\infty} x^2 |\psi(x)|^2 dx = \frac{2\alpha^3}{\pi} \int_{-\infty}^{\infty} \frac{x^2 dx}{\alpha^2+x^2} = \alpha^2$$

Επομένως

$$\Delta x \equiv \sqrt{\langle x^2 \rangle - \langle x \rangle^2} = \alpha$$

Προχωρούμε τώρα στον υπολογισμό τών μέσων τιμών τών  $p$  καί  $p^2$ . Παρατηρούμε ότι ή κυματοσυνάρτηση στο χώρο τών όρμών

$$C(p) = A e^{-\alpha|p-p_0|/\hbar}$$

δέν είναι κανονικοποιημένη για την ίδια τιμή του  $A = (\alpha/2\pi\hbar^2)^{1/2}$  για την όποια η  $\psi(x)$  κανονικοποιείται. Πραγματικά:

$$\int_{-\infty}^{\infty} |A|^2 e^{2\alpha|p-p_0|/\hbar} dp = |A|^2/\alpha = 1/2\pi\hbar^2$$

Άρα η κανονικοποιημένη κυματοσυνάρτηση στο χώρο των όρμων είναι ή

$$\hat{C}(p) = \sqrt{\alpha/\hbar} e^{-\alpha|p-p_0|/\hbar}$$

μέ βάση την όποια υπολογίζουμε τις μέσες τιμές των  $p$  και  $p^2$ .

$$\langle p \rangle = \int_{-\infty}^{\infty} p |\hat{C}(p)|^2 dp = \frac{\alpha}{\hbar} \int_{-\infty}^{\infty} p e^{-2\alpha|p-p_0|/\hbar} dp = p_0$$

$$\begin{aligned} \langle p^2 \rangle &= \int_{-\infty}^{\infty} p^2 |\hat{C}(p)|^2 dp = \frac{\alpha}{\hbar} \int_{-\infty}^{\infty} p^2 e^{-2\alpha|p-p_0|/\hbar} dp = \\ &= p_0^2 + \frac{\hbar^2}{2\alpha^2} \end{aligned}$$

Κατά συνέπεια έχουμε

$$\Delta p \equiv \sqrt{\langle p^2 \rangle - \langle p \rangle^2} = \frac{\hbar}{\sqrt{2}\alpha}$$

Τό γινόμενο των τυπικών αποκλίσεων  $\Delta x$  και  $\Delta p$  είναι ίσο με  $\hbar/\sqrt{2}$  και είναι ανεξάρτητο από τις τιμές των παραμέτρων  $\alpha$  και  $p_0$ . Σημειώστε επίσης ότι τό  $\hbar/\sqrt{2}$  είναι μεγαλύτερο από τό κατώτερο-πιτρεπτό σύμφωνα μέ τήν αρχή τής άβεβαιότητας του Heisenberg

$$(\Delta x)(\Delta p) \geq \frac{\hbar}{2}$$

Σημείωση. Είναι πιο πρακτικό νά γράφουμε τή σχέση των κυματοσυναρτήσεων  $\psi(x)$  και  $C(p)$  μέ τή μορφή:

$$\psi(x) = \frac{1}{\sqrt{2\pi\hbar}} \int_{-\infty}^{\infty} C(p) e^{px/\hbar} dp$$

Τότε κατά ένα θεώρημα για τά ολοκληρώματα Fourier έχουμε πάντοτε

$$\int_{-\infty}^{\infty} dx |\psi(x)|^2 = \int_{-\infty}^{\infty} dp |C(p)|^2$$

δηλ. αν ή μια άσπύ τις  $\psi(x)$  και  $C(p)$  είναι κανονισ/ου, τά είναι και ή άλλή.

ππει όταν  $Q'(p_0)=0$  δηλαδή όταν

$$\frac{\partial}{\partial p} \{ \Phi(p) + px/\hbar \}_{p=p_0} = 0 .$$

### Παράδειγμα II-27

Έλεύθερο σωματίδιο με μάζα  $m$  κινείται πάνω στον άξονα  $x$ . Τη χρονική στιγμή  $t=0$  ή κυματοσυνάρτησή του είναι

$$\psi(x) = \int_{-\infty}^{\infty} C(p) e^{ipx/\hbar} dp$$

όπου η συνάρτηση  $\{C(p)\}$  έχει ένα αιχμηρό μέγιστο για  $p=p_0$ .

Υπολογίστε προσεγγιστικά την τιμή του  $x$  για την οποία το μέτρο της  $\psi(x)$  είναι μέγιστο σάν συνάρτηση του χρόνου  $t$ .

### Λύση

Τό ολοκλήρωμα πού δίνει την  $\psi(x)$

$$\psi(x) = \int_{-\infty}^{\infty} C(p) e^{ipx/\hbar} dp$$

είναι μιά έπαλληλία από επίπεδα κύματα της μορφής  $e^{ipx/\hbar}$  πού τό καθένα τους ύπεισέρχεται μέ πλάτος  $C(p)$ . Η έξάρτηση ενός επίπεδου κύματος μέ όρμή  $p$  (δηλ. κυματικό άριθμό  $p/\hbar$ ) από τό χρόνο είναι πολύ άπλή όταν τό σωματίδιο είναι έλεύθερο: ή όρμή  $p$  καθορίζει καί την ένέργεια  $p^2/2m$  καί έπομένως σέ χρόνο  $t$  ή κυματοσυνάρτηση του επίπεδου κύματος θά είναι

$$e^{ipx/\hbar - i(p^2/2m)t/\hbar}$$

Η έπαλληλία των επιπέδων κυμάτων για διάφορα  $p$  μέ πλάτη  $C(p)$  δίνει λοιπόν

$$\psi(x, t) = \int_{-\infty}^{\infty} C(p) e^{ipx/\hbar - i(p^2/2m)t/\hbar} dp \quad (1)$$

Η παραπάνω έκφραση συμπίπτει μέ την  $\psi(x)$  για  $t=0$  καί έπίσης είναι εύκολο νά βεβαιωθοϋμε ότι έπαληθεύει την έξίσωση Schrödinger του έλεύθερου σωματιδίου

$$-\frac{\hbar^2}{2m} \frac{\partial^2}{\partial x^2} \psi(x, t) = i\hbar \frac{\partial}{\partial t} \psi(x, t)$$

για όλα τά  $x$  καί  $t$ .

Όποιαδήποτε κι'άν είναι η δοθείσα κυματοσυνάρτηση  $\psi(x)$  για  $t=0$ , μπορούμε με τόν παραπάνω τρόπο νά έκφράσουμε τήν κυματοσυνάρτηση για όλα τά  $t$ , σέ μορφή δλοκληρώματος. Κι'όταν άκόμη δέν είναι εύκολο νά βρούμε τό δλοκλήρωμα (1) άκριβώς, πολλές φορές μπορούμε νά τό ύπολογίσουμε προσεγγιστικά. Άν π.χ. χρησιμοποιήσουμε τήν άνάλυση τής προηγούμενης άσκησης έχουμε

$$Q'(p_0) = \Phi'(p_0) + x/\hbar - p_0 t/m\hbar.$$

Άρα έχουμε τό μέγιστο τής  $\psi(x,t)$  για

$$x = -\hbar\Phi'(p_0) + \frac{p_0}{m} t$$

όπου  $p_0$  είναι ή τιμή του  $p$  πού κάνει τήν  $|C(p)|$  μέγιστη. Βλέπουμε λοιπόν ότι τό "κέντρο" του κυματοπακέτου ενός έλεύθερου σωματιδίου κινείται όπως ένα κλασικό (δηλ. μή κβαντικό) σωματίδιο μέ ταχύτητα  $p_0/m$ .

### Παράδειγμα II-28

Έλεύθερο σωματίδιο έχει μάζα  $m$  και κινείται σέ μία διάσταση, πάνω στον άξονα  $x$ . Τή χρονική στιγμή  $t=0$  ή κυματοσυνάρτηση του  $\psi(x,t)$  είναι

$$\psi(x,0) = C e^{-ax^2 + ip_0 x/\hbar}, \quad a > 0.$$

Άν οί πραγματικές σταθερές  $a$  και  $p_0$  θεωρηθούν γνωστές,

α) Για  $t=0$  ύπολογίστε τή μέση τιμή τής συντεταγμένης  $x$  του σωματιδίου. (Έννοείται έδω ή μέση τιμή πού θά προέκυπτε από ανεξάρτητες μετρήσεις τής  $x$  πάνω σ'ένα μεγάλο αριθμό σωματιδίων πού όλα έχουν τήν παραπάνω κυματοσυνάρτηση).

β) Κατά πόσο θά μεταβληθεϊ ή μέση τιμή τής  $x$  μετά παρέλευση ενός πολύ μικρού χρονικού διαστήματος  $dt$ . (Υπόδειξη: Χρησιμοποιήστε τήν εξίσωση Schrödinger).

Χρήσιμα δλοκλήρωματα:

$$\int_{-\infty}^{\infty} dx e^{-bx^2} = \sqrt{\pi/b}, \quad \int_{-\infty}^{\infty} dx x e^{-bx^2} = 0, \quad \int_{-\infty}^{\infty} dx x^2 e^{-bx^2} = \frac{\sqrt{\pi}}{2} b^{-3/2}$$

### Λύση

α) Άν διαλέξουμε τή σταθερά  $C$  τέτοια ώστε ή  $\psi(x,0)$  νά είναι κανονικοποιημένη τότε

$$1 = \int_{-\infty}^{\infty} dx |\psi(x,0)|^2 = |C|^2 \int_{-\infty}^{\infty} dx e^{-2ax^2} = |C|^2 \frac{\sqrt{\pi}}{\sqrt{2a}}$$

\*Αρα αν  $|C|^2 = (2a/\pi)^{1/2}$ , τότε τό μέγεθος  $|\psi(x,0)|^2$  είναι ή πυκνότητα πιθανότητας. \*Η μέση τιμή τής συντεταγμένης  $x$  είναι

$$\langle x \rangle_{t=0} = \int_{-\infty}^{\infty} dx \cdot x |\psi(x,0)|^2 = (2a/\pi)^{1/2} \int_{-\infty}^{\infty} dx \cdot x e^{-2ax^2} = 0$$

[Σημ. Μέχρι έδω ή τιμή τής  $C$  δέ χρειάζεταιται.]

β) \*Η μέση τιμή τής συντεταγμένης  $x$  τή χρονική στιγμή  $t$  είναι

$$\langle x \rangle_t = \int_{-\infty}^{\infty} dx \cdot x |\psi(x,t)|^2$$

\*Η μεταβολή τής σέ πολύ μικρό χρονικό διάστημα  $dt$  από τή χρονική στιγμή  $t=0$  θά είναι

$$(dt) \frac{\partial}{\partial t} \langle x \rangle_t \Big|_{t=0} = (dt) \int_{-\infty}^{\infty} dx \cdot x \left\{ \frac{\partial \psi^*}{\partial t} \psi + \psi^* \frac{\partial \psi}{\partial t} \right\}_{t=0} \quad (1)$$

\*Η εξίσωση Schrödinger για ένα έλεύθερο σωματίδιο είναι

$$-\frac{\hbar^2}{2m} \frac{\partial^2 \psi}{\partial x^2} = i\hbar \frac{\partial \psi}{\partial t}$$

\*Αντικαθιστώντας τήν παράγωγο ως πρός τό χρόνο από τήν εξίσωση Schrödinger στήν (1) έχουμε

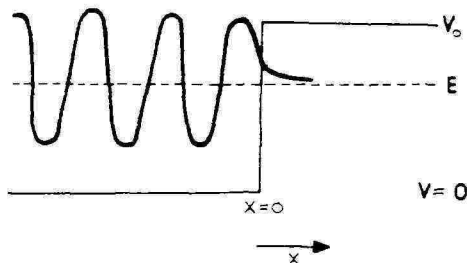
$$\begin{aligned} (dt) \frac{\partial}{\partial t} \langle x \rangle_t \Big|_{t=0} &= (dt) \frac{i\hbar}{2m} \int_{-\infty}^{\infty} dx \cdot x \left\{ -\frac{\partial^2 \psi^*}{\partial x^2} \psi + \psi^* \frac{\partial^2 \psi}{\partial x^2} \right\}_{t=0} = \\ &= (dt) \frac{i\hbar}{2m} \int_{-\infty}^{\infty} dx \cdot x |C|^2 (-8ap_0 ix) e^{-2ax^2} \\ &= \frac{2p_0}{m} (dt) |C|^2 \int_{-\infty}^{\infty} dx \cdot x^2 e^{-2ax^2} = \frac{p_0}{m} dt \end{aligned}$$

\*Αρα ή μέση τιμή τής συντεταγμένης  $x$ , πού μπορεί νά θεωρηθεί σάν "κέντρο" τοῦ κυματοπακέτου, κινείται μέ ταχύτητα  $p_0/m$ , πού συμπίπτει μέ τήν ταχύτητα ενός κλασικοῦ σωματιδίου μέ όρμή  $p_0$ .

## Παράδειγμα II-29

Όπως ξέρουμε ή κυματική εξίσωση του Schrödinger επιτρέπει σε σωματίδιο με ολική ενέργεια  $E$  να διεισδύσει σε περιοχή δυναμικού με  $V > E$ . Στην περίπτωση του ορθογώνιου βήματος δυναμικού βάθους  $V_0 > E$ , δείξτε πώς αυτή ή διείσδυση είναι συμβιβαστή με την αρχή της αβεβαιότητας του Heisenberg.

Υπ ό δ ε ι ξ η: Σάν "άβεβαιότητα θέσης" μέσα στην κλασικά απαγορευμένη περιοχή ( $x > 0$ ) όρίστε ένα μήκος  $\Delta x$  πέρα από τό όποιο ή τιμή της κυματοσυνάρτησης πού περιγράφει τό σωματίδιο έλαττώνεται "σημαντικά" (π.χ. στό  $1/e$  της τιμής πού έχει για  $x=0$ ).



## Λύση

Γιά  $x > 0$  ή χρονικά άνεξάρτητη εξίσωση Schrödinger, γίνεται

$$\frac{d^2\psi}{dx^2} - \frac{2m}{\hbar^2}(V_0 - E)\psi(x) = 0$$

καί έχει γενική λύση τήν  $\psi(x) = Ce^{-qx} + De^{qx}$ ,  $q = \frac{\sqrt{2m(V_0 - E)}}{\hbar}$ .

Θέτουμε  $D=0$  έπειδή ή  $e^{qx}$  δέν είναι φυσικά παραδεκτή.

Άν πάρουμε τόρα σάν άβεβαιότητα θέσης, για  $x > 0$ , τό  $\Delta x$  για τό όποιο

$$e^{-q\Delta x} = \frac{1}{e}$$

τότε

$$\Delta x = \frac{\hbar}{\sqrt{2m(V_0 - E)}}$$

Γιά νά παρατηρηθεϊ τό σωματίδιο μέσα στή κλασικά απαγορευμένη περιοχή θά πρέπει νά άλληλεπιδράσει με φωτόνιο πού νά έχει μήκος κύματος της τάξης μεγέθους  $\lambda \sim \Delta x$ . Η όρμή του φωτονίου αυτού θά είναι

$$p = \frac{h}{\lambda} \sim \frac{h}{\Delta x} \sim \sqrt{2m(V_0 - E)}$$

Άν κατά τήν άλληλεπίδραση αυτή τό φωτόνιο μεταδώσει όλη τήν όρμή του στό σωματίδιο, ή ενέργεια του σωματιδίου θά μεταβληθεϊ κατά

$$\Delta E = \frac{p^2}{2m} \sim V_0 - E$$

Έτσι ή όλική ενέργεια του σωματιδίου θά γίνει



$$E + \Delta E \sim V_0$$

Παρατηρούμε ότι η μέτρηση διαταράσσει την κατάσταση του σωματιδίου, έτσι, ώστε η ολική του ενέργεια να γίνεται συγκολληση με τη  $V_0$ . Έπομένως η περιοχή με  $x > 0$  παύει να είναι κλασικά απαγορευμένη. Η μέτρηση μεταβάλλει επίσης την όρμη  $p$  του σωματιδίου κατά

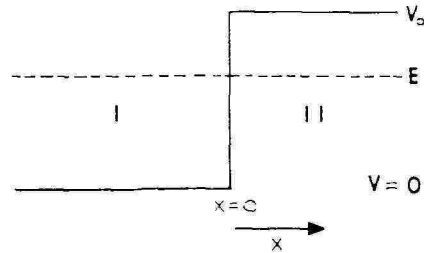
$$\Delta p = \sqrt{2m \cdot \Delta E} \sim \sqrt{2m(V_0 - E)}$$

Άρα,

$$\Delta p \cdot \Delta x \sim h$$

### Παράδειγμα II-30

Στην επιφάνεια ενός μετάλλου εξασκούνται πάνω στα ελεύθερα ηλεκτρόνια δυνάμεις, που μπορούν να περιγραφούν σε πρώτη προσέγγιση από ένα βήμα δυναμικού. Αν το έργο εξαγωγής είναι  $b = V_0 - E = 4 \text{ eV}$ , να υπολογισθεί η τάξη μεγέθους του βάθους στο οποίο μπορεί να διεισδύσει ένα ελεύθερο ηλεκτρόνιο στην κλασικά απαγορευμένη περιοχή II (δηλ. στον ελεύθερο χώρο).



### Λύση

Η πυκνότητα πιθανότητας στην περιοχή II είναι ανάλογη του  $e^{-2k_2 x}$  όπου

$$k_2 = \frac{\sqrt{2m(V_0 - E)}}{\hbar}$$

Άρα κατά προσέγγιση το βάθος διεισδύσεως (βλ. Παράδ. II-29) θα είναι

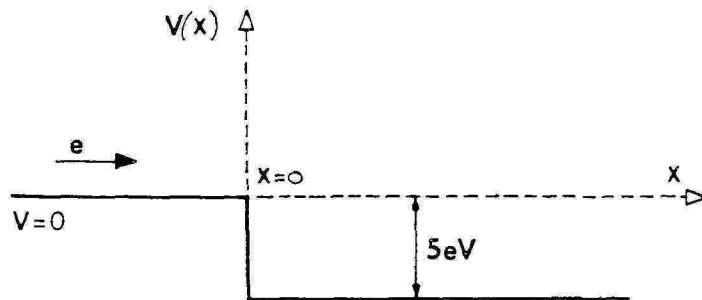
$$\begin{aligned} \Delta x &= \frac{1}{k_2} = \frac{\hbar}{\sqrt{2m(V_0 - E)}} = \frac{10^{-34} \text{ J}\cdot\text{s}}{\sqrt{2 \times 9 \times 10^{-31} \text{ kg} \times 4 \times 1,6 \times 10^{-19} \text{ J}}} \\ &= 10^{-10} \text{ m} = 1 \text{ \AA} \end{aligned}$$

δηλ. μιá απόσταση που είναι σημαντική σε ατομική κλίμακα.

### Παράδειγμα II-31

Έλεύθερο ηλεκτρόνιο με αρχική κινητική ενέργεια  $E = 4 \text{ eV}$  προσπίπτει κά-

θετα στην επιφάνεια μετάλλου μέσα στο οποίο τό δυναμικό είναι χαμηλότερο κατά  $W=5eV$ . Ποιά είναι ή πιθανότητα νά ανακλαστεί τό ηλεκτρόνιο;



### Λύση

Η όρμή του ηλεκτρονίου αρχικά είναι  $p=\sqrt{2mE}$  και ή κυματοσυνάρτηση για  $x < 0$  θά είναι

$$Ae^{ipx/\hbar} + Be^{-ipx/\hbar} \quad x < 0$$

δηλ. υπέρθεση ενός προσπίπτοντος κύματος μέ κυματικό αριθμό  $p/\hbar$  πού όδεύει πρός τά δεξιά και ενός ανακλώμενου μέ κυματικό αριθμό  $-p/\hbar$  πού όδεύει πρός τά άριστερά. Η σταθερά  $B/A$  είναι τό πλάτος ανακλάσεως πού πρέπει νά προσδιοριστεί. Στην περιοχή  $x > 0$ , μέσα στο μέταλλο, ή κινητική ενέργεια είναι  $E+W$  και ή κυματοσυνάρτηση θά άποτελεϊται μόνο από ένα κύμα πού όδεύει πρός τά δεξιά:

$$Ce^{ip'x/\hbar} \quad x > 0$$

όπου  $p'=\sqrt{2m(E+W)}$ . Οι συνθήκες συνέχειας στο σύνορο  $x=0$  για την κυματοσυνάρτηση και την παράγωγό της δίνουν

$$A+B=C$$

$$pA-pB=p'C$$

Ανώνοντας ως προς  $B/A$  και  $C/A$  έχουμε

$$\frac{B}{A} = \frac{p-p'}{p+p'} \quad , \quad \frac{C}{A} = \frac{2p}{p+p'}$$

Η πιθανότητα ανακλάσεως είναι ίση μέ  $|B/A|^2$  δηλ.

$$\left| \frac{p-p'}{p+p'} \right|^2 = \left( \frac{\sqrt{2mE} - \sqrt{2m(E+W)}}{\sqrt{2mE} + \sqrt{2m(E+W)}} \right)^2 = \left( \frac{\sqrt{E+W} - \sqrt{E}}{\sqrt{E+W} + \sqrt{E}} \right)^2 = \left( \frac{\sqrt{9-4} - \sqrt{9+4}}{\sqrt{9-4} + \sqrt{9+4}} \right)^2 = \frac{1}{25}$$

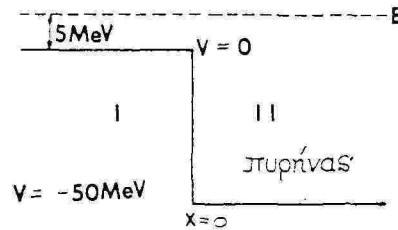
### Παράδειγμα II-32' Ανάκλαση νετρονίου από πυρήνα

Νετρόνιο, με κινητική ενέργεια  $K=5$  MeV πέφτει πάνω σ' ένα πυρήνα. Προσεγγιστικά, δεχόμαστε ότι η ελκτική δύναμη που δρα πάνω στο νετρόνιο κοντά στην επιφάνεια του πυρήνα παράγεται από ένα ορθογώνιο βήμα δυναμικού βάθους  $V=50$  MeV.

α) Πόση είναι η πιθανότητα να μπει τό νετρόνιο μέσα στον πυρήνα και πόση να ανακλαστεί;

β) Αν τό νετρόνιο βρισκόταν μέσα στον πυρήνα και έπεφτε στην επιφάνεια του πυρήνα (από δεξιά, στο σχήμα) με όλική ενέργεια 5 MeV, ποιές θά ήταν οι πιθανότητες ανάκλασης και μετάδοσης του νετρονίου;

γ) Τά αποτελέσματα που βρήκαμε στά (α) και (β), αντιφάσκουν με τίς αντίστοιχες κλασικές προβλέψεις;



### Λύση

Η χρονικά ανεξάρτητη εξίσωση του Schrödinger είναι

$$\frac{d^2\psi(x)}{dx^2} + \frac{2m}{\hbar^2}(E-V(x))\psi(x)=0,$$

όπου  $E$  ή όλική ενέργεια και  $V$  ή δυναμική ενέργεια.

Οι γενικές λύσεις της εξισώσεως αυτής είναι:

Για  $x < 0$

$$\psi_I(x) = Ae^{ik_1x} + Be^{-ik_1x}$$

$$k_1 = \frac{\sqrt{2m(E-V)}}{\hbar}, \quad E-V=E=K=5 \text{ MeV}$$

Ο  $\alpha'$  όρος αντιπροσωπεύει τό προσπίπτον κύμα και ο  $\beta'$  τό ανακλώμενο.

Για  $x > 0$

$$\psi_{II}(x) = Ce^{ik_2x} + De^{-ik_2x}$$

$$k_2 = \frac{\sqrt{2m(E-V)}}{\hbar}, \quad E-V=5+50=55 \text{ MeV}$$

$D=0$ , γιατί δέν υπάρχει ανακλώμενο κύμα στη περιοχή II.

Συνέχεια της  $\psi$  και της πρώτης παραγώγου της στό  $x=0$ , οδηγούν στίς

$$A+B=C$$

$$B = \frac{k_1 - k_2}{k_1 + k_2} A$$

όπότε

$$k_1(A-B) = k_2 C \quad C = \frac{2k_1}{k_1 + k_2} A$$

Ο συντελεστής ανάκλασης είναι  $R = \frac{BB^*}{AA^*} = \left( \frac{k_1 - k_2}{k_1 + k_2} \right)^2 = 0,288$  όπότε ο συντελεστής διαδόσεως  $T$  θα είναι

$$T = 1 - R = 0,712$$

β) Οι λύσεις της εξίσ. Schrödinger είναι σ'αυτή την περί -  
πτωση:

Για  $x < 0$

$$\psi_1(x) = Ae^{ik_1x} + Be^{-ik_1x}$$

$$A=0$$

γιατί υπάρχει μόνο τό μεταδιδόμενο κύμα πού κινείται πρὸς τὰ ἀρι-  
στερά.

Για  $x > 0$

$$\psi_2(x) = Ce^{ik_2x} + De^{-ik_2x}$$

Ἡ συνέχεια τῶν  $\psi$  καὶ  $\frac{d\psi}{dx}$  στό  $x=0$  ὀδηγοῦν στὶς ἐκφράσεις

$$B = \frac{2k_1}{k_1 + k_2} D, \quad C = \frac{k_2 - k_1}{k_1 + k_2} D$$

γιά τὰ πλάτη τοῦ μεταδιδόμενου καὶ ἀνακλώμενου κύματος συναρτήσῃ τοῦ πλάτους  $D$  τοῦ προσπίπτοντος. Ὅπότε καὶ πάλι

$$R = 0,288 \quad \text{καὶ} \quad T = 0,712$$

γ) Τὰ ἀποτελέσματα στὰ  $\alpha$  καὶ  $\beta$  ἀντιρᾶσκουν μέ τίς κλασικὲς προβλέψεις κατὰ τίς ὁποῖες, ἀφοῦ  $E > V$ , θά πρέπει νά ἔχουμε βέβαιη μετάδοσιν καὶ στό  $\alpha$  καὶ στό  $\beta$  ἐρώτημα. Κβαντομηχανικά ὅμως ἀρῆκαμε καὶ μιὰ πιθανότητα ἀνάκλασης  $R \neq 0$ .

Σημείωση: Ἐπειδὴ ὁ συντελεστὴς ἀνάκλασης δέν εἶναι μηδέν τό νετρόνιο δέν μπαίνει πάντοτε μέσα στόν πυρήνα καὶ ἐπομένως δέν μπορεῖ πάντοτε νά προκαλέσῃ πυρηνικὴ σῆσιν.

### Παράδειγμα II-33 Σκέδαση συντονισμού (Ramsauer)

Ήλεκτρονίο με κινητική ενέργεια  $E$  πέφτει από άδυσταρά (περιοχή (1)) σε φράγμα δυναμικού ύψους  $V_0 < E$  και εύρους  $a$ .

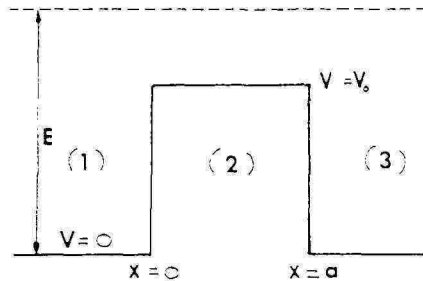
α) Γράψτε τη μορφή των κυματοσυναρτήσεων που περιγράφουν το σωματίδιο στις περιοχές 1, 2 και 3.

β) Ποιές είναι οι όριακές συνθήκες στα σημεία  $x=0$  και  $x=a$ ;

γ) Ο συντελεστής μετάδοσης στη περιοχή (3) είναι

$$T = \left\{ 1 + \frac{V_0^2 \sin^2 k_2 a}{4E(E-V_0)} \right\}^{-1}$$

όπου  $k_2$  το μέτρο του κυματοδιανύσματος στην περιοχή (2). Υπάρχουν τιμές του  $E$  για τις οποίες το ήλεκτρονίο συμπεριφέρεται "κλασικά", δηλ. περνάει στην περιοχή (3) όποσδήποτε χωρίς να ανακλαστεί;



### Λύση

α) Η γενική λύση της χρονικά ανεξάρτητης εξίσωσης Schrödinger στις περιοχές 1, 2 και 3 είναι αντίστοιχα:

$$\psi_1(x) = Ae^{ik_1 x} + Be^{-ik_1 x} \quad x < 0 \quad (1)$$

$$\psi_2(x) = Ce^{ik_2 x} + De^{-ik_2 x} \quad 0 < x < a \quad (2)$$

$$\psi_3(x) = Fe^{ik_3 x} + Ge^{-ik_3 x} \quad x > a \quad (3)$$

$$k_1 = \frac{\sqrt{2mE}}{\hbar}, \quad k_2 = \frac{\sqrt{2m(E-V_0)}}{\hbar}, \quad k_3 = k_1 \quad (4)$$

Επειδή για  $x > a$  δεν υπάρχει καμιά ασυνέχεια του δυναμικού δεν περιμένουμε ανακλώμενο κύμα που να διαδίδεται από τα δεξιά σ' αυτή την περιοχή. Έτσι θέτουμε  $G=0$ .

β) Στις θέσεις  $x=0$  και  $x=a$  όπου το δυναμικό είναι ασυνεχές οι  $\psi(x)$  και  $\frac{d\psi(x)}{dx}$  είναι συνεχείς, δηλ. ισχύει

$$\psi_1(0) = \psi_2(0), \quad \psi_1'(0) = \psi_2'(0) \quad (5)$$

$$\psi_2(a) = \psi_3(a), \quad \psi_2'(a) = \psi_3'(a) \quad (6)$$

Οι σχέσεις (1)-(6) δίνουν τις εξής συνθήκες μεταξύ των πλατών  $A, B, C, D$  και  $F$  των διαφόρων κυμάτων που συνιστούν τις  $\psi_1, \psi_2$  και  $\psi_3$ :

$$A+B=C+D$$

$$Ak_1 - Bk_1 = Ck_2 - Dk_2$$

$$Ce^{k_2 a} + De^{-k_2 a} = Fe^{ik_2 a}$$

$$Ck_2 e^{k_2 a} - Dk_2 e^{-k_2 a} = Fk_3 e^{ik_2 a}$$

γ) Για να περνάει το ηλεκτρόνιο όπωσδήποτε στην περιοχή 3, ο συντελεστής μετάδοσης θα πρέπει να είναι ίσος με την μονάδα. Από την έκφραση που δίνεται για το συντελεστή μετάδοσης προκύπτει ότι

$$\frac{V_0^2 \sin^2 k_2 a}{4E(E-V_0)} = 0$$

Αυτό αληθεύει είτε προσεγγιστικά για εξαιρετικά υψηλές ενέργειες του ηλεκτρονίου δηλ.  $E \gg V_0$ , είτε ακριβώς όταν

$$\sin k_2 a = 0 \quad \text{δηλ.} \quad k_2 a = n\pi \quad n=0, 1, 2, \dots$$

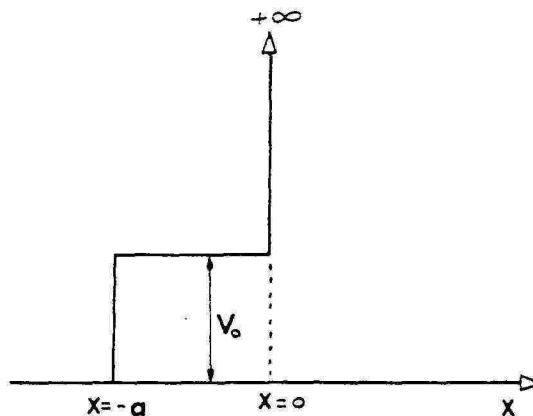
Η (4) τότε δίνει

$$\frac{\sqrt{2m(E-V_0)}}{\hbar} = n \frac{\pi}{a}$$

$$\text{ή} \quad E = \frac{n^2 \pi^2 \hbar^2}{2ma^2} + V_0, \quad n=0, 1, 2, \dots$$

### Παράδειγμα II-34

Σωματίδιο με μάζα  $m$  πέφτει από αριστερά πάνω στο δυναμικό του σχήματος. Υπολογίστε τον συντελεστή ανακλάσεως  $R$  σαν συνάρτηση της ενέργειας  $E$  του σωματιδίου, α) αν  $E > V_0$ , και β) αν  $E < V_0$ .



## Λύση

α) Στην περίπτωση  $E > V_0$  έχουμε οδεύοντα κύματα και στις δύο περιοχές I:  $(-\infty < x < -a)$  και II:  $(-a < x < 0)$ .

Αφού στην καθεμιά από τις παραπάνω περιοχές το δυναμικό είναι σταθερό, η λύση της εξίσωσης Schrödinger είναι γραμμικός συνδυασμός των έκθετικών  $e^{\pm ikx}$ , όπου  $k$  ο κατάλληλος κυματικός αριθμός ίσος κάθε φορά με την αντίστοιχη κλασική όρμη διαιρεμένη με  $\hbar$ . Έτσι στην περιοχή I έχουμε την κυματοσυνάρτηση

$$\psi_I(x) = e^{ipx/\hbar} + R e^{-ipx/\hbar}, \quad p = \sqrt{2mE}$$

δηλ. μιιά υπέρθεση ενός προσπίπτοντος κύματος και ενός ανακλωμένου με σχετικό πλάτος  $R$ . Όμοια, στην περιοχή II, έχουμε μιιά έπαλληλία των  $e^{ip'x/\hbar}$  και  $e^{-ip'x/\hbar}$  με  $p' = \sqrt{2m(E - V_0)}$  που όμως πρέπει νά μηδενίζεται στο  $x=0$ . Άρα

$$\psi_{II}(x) = A \sin(p'x/\hbar), \quad p' = \sqrt{2m(E - V_0)}$$

Οι συνθήκες συνέχειας της  $\psi(x)$  και της  $d\psi(x)/dx$  στο  $x=-a$  μās δίνουν τις σχέσεις

$$e^{-ipa/\hbar} + R e^{ipa/\hbar} = -A \sin(p'a/\hbar)$$

$$ip e^{-ipa/\hbar} - ip R e^{ipa/\hbar} = A p' \cos(p'a/\hbar)$$

Οι παραπάνω σχέσεις μās δίνουν τά  $R$  και  $A$ . Βρίσκουμε λοιπόν

$$R = e^{-2ipa/\hbar} \frac{p' + ip \tan(p'a/\hbar)}{-p' + ip \tan(p'a/\hbar)}$$

β) Θεωρούμε τώρα την περίπτωση  $E < V_0$ . Η μόνη διαφορά είναι ότι τώρα στην περιοχή II η γενική λύση της εξίσωσης Schrödinger είναι γραμμικός συνδυασμός των πραγματικών έκθετικών  $e^{\pm p''x/\hbar}$  και όχι οδεύοντων κυμάτων (πρόκειται για κλασικά άπαγορευμένα περιοχή).

Έχουμε λοιπόν

$$\psi_I(x) = e^{ipx/\hbar} + R e^{-ipx/\hbar}, \quad p = \sqrt{2mE}$$

$$\psi_{II}(x) = B \sinh(p''x/\hbar), \quad p'' = \sqrt{2m(V_0 - E)}$$

Οι συνθήκες συνέχειας είναι

$$e^{-ipa/\hbar} + ipRe^{-pa/\hbar} = A \sinh(p'a/\hbar)$$

$$ipe^{-pa/\hbar} - ipRe^{pa/\hbar} = Ap' \cosh(p'a/\hbar)$$

$$R = e^{-2ipa/\hbar} \frac{p' + ip \tanh(p'a/\hbar)}{-p' + ip \tanh(p'a/\hbar)}$$

Παρατήρηση: Καί στις δύο περιπτώσεις (είτε  $E > V_0$ , είτε  $E < V_0$ ) ή πιθανότητα ανάκλασης είναι  $|R|^2 = 1$  πράγμα πού θά μπορούσαμε νά τό δοῦμε ἀμέσως χωρίς κανένα ὑπολογισμό γιατί ἡ πιθανότητα τό σωματίδιο νά περάσει πρὸς  $x \rightarrow +\infty$  εἶναι προφανῶς μηδέν. Τό δυναμικό γιά  $x > 0$  εἶναι  $+\infty$  καί ἄρα ἡ κυματοσυνάρτηση εἶναι πάντα μηδέν δεξιὰ τοῦ  $x=0$ .

Ὁ συντελεστής ἀνάκλασης ἔχει λοιπόν τή μορφή

$$R = e^{\varphi}$$

ὅπου ἡ φάση  $\varphi$  εἶναι πραγματική καί ἐξαρτᾶται ἀπό τήν  $E$ . Ποιά εἶναι λοιπόν ἡ φυσική σημασία τῆς  $\varphi$  ἀφοῦ δέν ἐπηρεάζει καθόλου τήν πιθανότητα ἀνάκλασης; Μπορεῖ νά δεῖχτεῖ γ ε ν ι κ ᾶ ὅτι ἡ ταχύτητα μεταβολῆς τῆς φάσης τοῦ συντελεστή ἀνάκλασης μέ τήν ἐνέργεια  $E$  καθορίζει τή σχετική χ ρ ο ν ι κ ῆ κ α θ υ σ τ ῆ ρ η σ η πού ἐπιφέρει ἕνα συγκεκριμένο δυναμικό στήν ἀνάκλαση μιᾶς κυματοδέσμης πῶς σύγκριση μέ τό χρόνο πού χρειάζεται γιά νά ἀνακλασθεῖ ἕνα σωματίδιο (μέ τήν ἴδια ἐνέργεια) στό σημεῖο  $x=0$ . Συγκεκριμένα ὁ χρόνος καθυστέρησης  $\tau$  δίνεται ἀπό τόν τύπο

$$\tau = \hbar \partial \varphi / \partial E$$

ὅπου  $\varphi$  ἡ φάση τοῦ συντελεστή ἀνάκλασης  $R$  (πού θά πρέπει νά τήν ξέρουμε σά συνάρτηση τῆς  $E$ ). Σάν ἕνα πολύ ἀπλό παράδειγμα ἄς θεωρήσουμε μιᾶ ὄριακή περίπτωση αὐτοῦ τοῦ προβλήματος ὅπου τό  $V_0$  γίνεται πολύ μεγάλο (δηλ. πολύ μεγαλύτερο ἀπό τήν ἐνέργεια  $E$ ). Τότε ὁ συντελεστής ἀνάκλασης πλησιάζει τήν τιμή

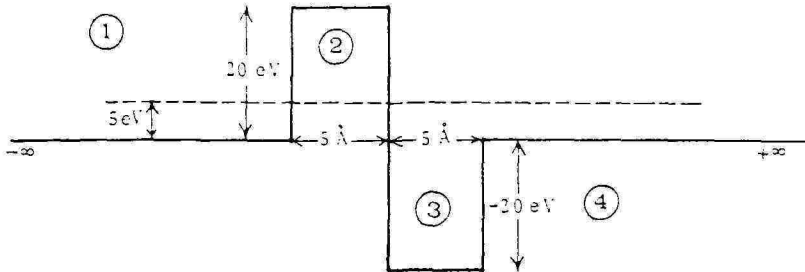
$$R \approx e^{-2ipa/\hbar}$$

Ἔχουμε τότε  $\varphi \approx -2pa/\hbar = -2\sqrt{2mE} a/\hbar$  καί ἄρα  $\tau = -2ap/m = -2a/v$ . Ἔχουμε δηλαδή ἐ π ἰ σ π ε υ σ η κατά  $2a/v$ . Πραγματικά, στό ὄριο αὐτό οὐσιαστικά ἔχουμε ἀνάκλαση στό σημεῖο  $x=-a$  ὁπότε τό διανυόμενο διάστημα συντομεύεται κατά  $2a$ .



### Παράδειγμα II-35 Δυναμικό σταθερό κατά τμήματα

Ήλεκτρονίο, που έχει ενέργεια  $5 \text{ eV}$  και κινείται σε μία διάσταση, προσπίπτει από αριστερά στο παρακάτω δυναμικό:



α) Γράψτε τις φυσικά παραδεκτές λύσεις της εξίσωσης Schrödinger στις περιοχές 1, 2, 3 και 4 και εξηγήστε τι παριστάνει από φυσική άποψη καθένας όρος αυτών των λύσεων.

β) Στις περιοχές όπου η λύση έχει ταλαντούμενη μορφή βρείτε τα αντίστοιχα μήκη κύματος (σε  $\text{\AA}$ ).

γ) Σχεδιάστε το πραγματικό μέρος της λύσης της εξίσωσης Schrödinger για  $-\infty < x < +\infty$ . Το σχέδιο να είναι χονδρικό, αλλά να αναδεικνύει τα σημαντικά φυσικά χαρακτηριστικά της λύσης. Εξηγήστε ποια χαρακτηριστικά προσπαθήσατε να αποδώσετε στο σχέδιό σας.

δ) Εκτιμήστε την τάξη μεγέθους της επί τοις εκατό πιθανότητας μετάδοσης του ηλεκτρονίου από την περιοχή 1 στην περιοχή 3.

### Λύση

α) Η εξίσωση Schrödinger γι' αυτό το πρόβλημα γράφεται

$$\frac{d^2}{dx^2} \psi(x) + \frac{2m}{\hbar^2} (E - V) \psi(x) = 0,$$

όπου  $m$  η μάζα του ηλεκτρονίου,  $E = 5 \text{ eV}$  η ολική ενέργεια του ηλεκτρονίου και

$$V = \begin{cases} V_1 = 0 & \text{στήν περιοχή 1,} \\ V_2 = 20 \text{ eV} & \text{" 2,} \\ -V_3 = -20 \text{ eV} & \text{" 3,} \\ V_4 = 0 & \text{" 4,} \end{cases}$$

ή δυναμική ενέργεια του ηλεκτρονίου. Οι λύσεις αυτής της εξίσωσης είναι:

Στήν περιοχή 1,

$$\psi_1(x) = A e^{+ik_1 x} + B e^{-ik_1 x},$$

όπου  $k_1 = \sqrt{\frac{2mE}{\hbar^2}}$  και  $A, B$  αθαίρετες σταθερές.

Ο πρώτος όρος αυτής της λύσης παριστάνει το προσπίπτον κύμα πάνω στην ασυνέχεια του δυναμικού ανάμεσα στις περιοχές 1 και 2 και ο δεύτερος τό ανακλώμενο.

Στήν περιοχή 2 έχουμε

$$\psi_2(x) = Ce^{-q_2x} + De^{+q_2x},$$

όπου  $q_2 = \sqrt{\frac{2m}{\hbar^2}(V_2 - E)}$  και  $C, D$  αθαίρετες σταθερές.

Εδῶ έχουμε έκθετικές λύσεις της έξ. Schrödinger· δέν πρόκειται για ὀδεύοντα κύματα. Καί οί δυό ὀροι εἶναι φυσικά παραδεκτοί, ἄφοῦ ἡ περιοχή 2 εἶναι πεπερασμένη.

Στήν περιοχή 3, ἀνάλογα μέ τήν 1, θά ἔχουμε

$$\psi_3(x) = Ee^{+ik_3x} + Fe^{-ik_3x},$$

όπου  $k_3 = \sqrt{\frac{2m}{\hbar^2}(E + V_3)}$ , ἐνῶ στήν περιοχή 4

$$\psi_4(x) = Ge^{ik_4x} \quad (k_4 = k_1).$$

Στήν τελευταία λύση δέν ἔχουμε περιλάβει ἀνακλώμενο κύμα, ἀφοῦ ἡ περιοχή 4 ἐκτείνεται ὡς τό ἄπειρο χωρίς τό δυναμικό νά παρουσιάζει ἀσυνέχειες.

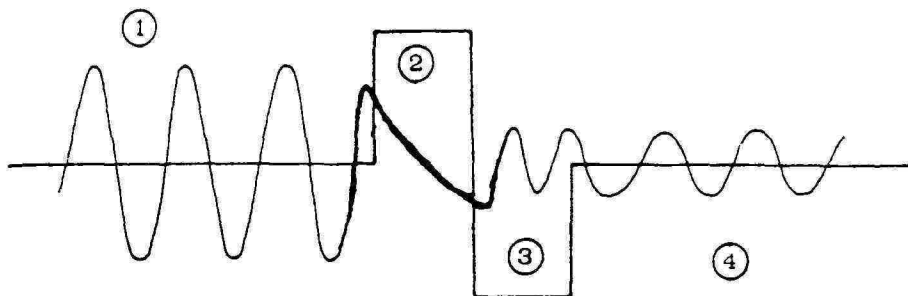
Οί σταθερές  $A, B, \dots, G$  προσδιορίζονται ἀπό τίς ἀπαιτήσεις συνέχειας τῆς συνολικῆς λύσης καί τῆς πρώτης παραγώγου τῆς στά σημεία ὀπου τό δυναμικό παρουσιάζει ἀσυνέχειες, καθώς ἐπίσης καί ἀπό μιᾶ δεδομένη πιθανότητα πρόσπτωσης τοῦ ἠλεκτρονίου.

β) Βρήκαμε ὀτι λύσεις μέ ταλαντούμενη συμπεριφορά ὑπάρχουν στίς περιοχές 1, 3 καί 4. Για τᾶ ἀντίστοιχα μήκη κύματος βρίσκουμε

$$k_1 = k_4 = \sqrt{\frac{2mc^2}{(\hbar c)^2} E} = 1.15 \text{ \AA}^{-1}, \text{ ὀηλ. } \lambda_1 = \lambda_4 = \frac{2\pi}{k_1} = 5.48 \text{ \AA},$$

$$k_3 = \sqrt{\frac{2mc^2}{(\hbar c)^2} (E + V_3)} = 2.56 \text{ \AA}^{-1}, \text{ ὀηλ. } \lambda_3 = \frac{2\pi}{k_3} = 2.45 \text{ \AA}.$$

γ) Μιᾶ χονδρική γραφική παράσταση τοῦ πραγματικοῦ μέρους ( $\text{Re}e^{ikx} = \cos kx$ ) τῆς λύσης εἶναι ἡ παρακάτω ἡ ὀποία ἔχει τᾶ ἀκό-



λουθα σημαντικά χαρακτηριστικά.

1) Συνέχεια τῆς λύσης καί τῆς πρώτης παρανόγου της ἀκόμα καί στά σημεία ὅπου τό δυναμικό παρουσιάζει ἀσυνέχεια.

2) Τό πλάτος τοῦ κύματος στίς περιοχές 3 καί 4 εἶναι πολύ μικρότερο ἀπό τό πλάτος τοῦ κύματος στήν περιοχή 1.

Ὁ λόγος τοῦ πλάτους κύματος στήν περιοχή 3 πρὸς τό πλάτος κύματος στήν περιοχή 1 ἔχει ληφθεῖ στό σχῆμα πολύ μεγαλύτερος ἀπό ὅσος εἶναι στήν πραγματικότητα, γιά λόγους παραστατικότητας, (βλ. ἀπάντηση στήν ἐπόμενη ἐρώτηση).

3) Τό πλάτος κύματος στίς περιοχές 1,3 καί 4 εἶναι σταθερό.

4) Στήν περιοχή 2 ἡ κυματοσυνάρτηση δέν ταλαντώνεται ἀλλά ἔχει ἐκθετική συμπεριφορά.

5) Στίς περιοχές 1 καί 4 ἔχουμε τό ἴδιο μῆκος κύματος. Στήν περιοχή 3 τό μῆκος κύματος εἶναι περίπου τό μισό ἀπό ἐκεῖνο πού ἀντιστοιχεῖ στίς περιοχές 1 καί 4.

6) Ἡ τάξη μεγέθους τοῦ συντελεστή μετάδοσης ἀπό τήν περιοχή 1 στήν περιοχή 3 δίνεται ἀπό τή σχέση

$$T \sim \exp(-2a q_2),$$

ὅπου

$$a = 5 \text{ \AA} \quad \text{καί} \quad q_2 = \sqrt{\frac{2mc^2}{(\hbar c)^2} (V_2 - E)} = 1.98 \text{ \AA}^{-1}$$

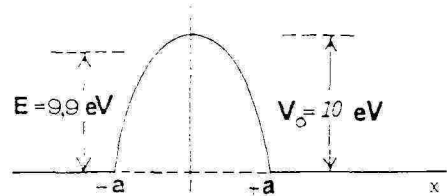
Ἐπομένως, ἡ ἐπί τοῦς ἑκατό πιθανότητα μετάδοσης ἀπό τήν περιοχή 1 στήν περιοχή 3 εἶναι τῆς τάξης τοῦ  $10^{-7} \%$ .

### Παράδειγμα II-36 Διάβαση παραβολικοῦ φραγμοῦ

Μιά δέσμη ἰόντων λιθίου μέ ἐνέργεια ἡμερίας  $mc^2 \approx 6.5 \text{ GeV}$ , κινεῖται

κατά τή διεύθυνση  $x$  μέ κινητική ενέργεια  $E=9.9\text{eV}$  καί προσπίπτει σ'ένα φραγμό δυναμικοῦ  $V(x)$  μέ ὕψος  $V_0=10\text{eV}$ , ὁ ὁποῖος ἔχει παραβολικό σχῆμα. Στό σύστημα συντεταγμένων πού φαίνεται παρακάτω, ἔχουμε:

$$V(x) = \begin{cases} 0 & \text{ἄν } x < -a \\ V_0 \left(1 - \frac{x^2}{a^2}\right) & \text{ἄν } -a < x < a \\ 0 & \text{ἄν } x > a \end{cases}$$



α) Ἐκτιμῆστε προσεγγιστικά τό εὔρος  $2a$  πού θά πρέπει νά ἔχει ὁ φραγμός (σέ μονάδες  $\text{\AA}$ ), ὥστε νά τόν διαπερνάει περίπου ἕνα ἰόν τῆς δέσμης στά χίλια.

β) Ἐξηγήστε κάτω ἀπό ποιές συνθήκες θά περιμένετε ἡ ἀνάλυση τοῦ (α) μέρους νά ἐφαρμόζεται γενικότερα, ἀνεξάρτητα ἀπό τό συγκεκριμένο σχῆμα τοῦ φραγμοῦ.

### Λύση

α) Ἀφοῦ ὁ φραγμός δυναμικοῦ παριστάνεται ἀπό μιὰ ἄρτια συνάρτηση τοῦ  $x$ , ὁ συντελεστής μετάδοσης  $T$  δίνεται κατά προσέγγιση ἀπό τήν ἔκφραση

$$\ln T \approx -4 \int_0^a dx \sqrt{\frac{2m}{\hbar^2} [V(x) - E]},$$

ὅπου τό κλασικό σημεῖο ἀναστροφῆς  $\alpha$  βρίσκεται ἀπό τή σχέση

$$E = V_0 \left(1 - \frac{\alpha^2}{a^2}\right) \quad \text{ἢ} \quad \alpha^2 = a^2 \left(1 - \frac{E}{V_0}\right) \quad \text{ἢ} \quad \alpha = 0.1a.$$

Ἐπομένως, ἔχουμε

$$\ln T \approx -\frac{4}{a} \left(\frac{2mV_0}{\hbar^2}\right)^{\frac{1}{2}} \int_0^a \sqrt{a^2 - x^2} dx = -Qa^*,$$

ὅπου

$$Q = \pi \left(1 - \frac{E}{V_0}\right) \frac{(2mc^2 V_0)^{\frac{1}{2}}}{\hbar c} \approx 5.75 \text{ \AA}^{-1}.$$

Ἄν θέλουμε ὁ συντελεστής μετάδοσης νά γίνει περίπου  $1/1000$ , θά πρέπει

$$2a \approx 2 \frac{\ln 1000}{Q} \approx 2.4 \text{ \AA}.$$

β) Ἄν ἕνα σωματίδιο προσπίπτει σέ φραγμό δυναμικοῦ  $V(x)$ , πού παριστάνεται ἀπό μιὰ ὁμαλή συνάρτηση μέ ἕνα μέγιστο στό σημεῖο  $x=0$  καί ἡ κινητική ἐνέργεια τοῦ σωματιδίου εἶναι μόλις μι-

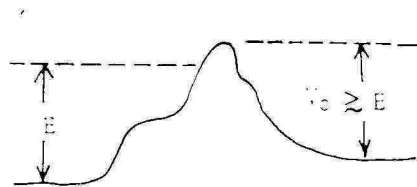
\*  $\int_0^a \sqrt{a^2 - x^2} dx = \frac{\pi}{2} a^2$ .

κρότερη από αυτό τό μέγιστο, είναι φανερό πώς ελαττώνεται ή παραπάνω ανάλυση, σχετικά μέ τήν εύρεση του συντελεστή μετάδοσης από τό φραγμό.

Πράγματι, αν ή  $V(x)$  έχει μέγιστο στό σημείο  $x=0$  θά έχουμε

$$V(x) = V(0) + \frac{1}{2} V''(0) x^2 + \dots + \frac{1}{n!} V^{(n)}(0) x^n + \dots$$

Από τήν άλλη μεριά, αν ή κινητική ενέργεια  $E$  του σωματιδίου είναι αρκετά κοντά στη μέγιστη τιμή  $V(0)$  του δυναμικού, τά κλασικά σημεία αναστροφής μπορούν νά βρισκονται αρκετά κοντά στό  $x=0$ , ώστε οί όροι τρίτου και ανώτερου βαθμού στό προηγούμενο ανάπτυγμα νά άμελοῦνται.



### Παράδειγμα II-37 Ηλικία του ήλιακού συστήματος

Γιά τά ισότοπα  $U^{235}$  και  $U^{238}$  πού άπαντάνε στη φύση, οί άφθονίες είναι 0,71% και 99,28%, αντίστοιχα και οί χρόνοι ήποδιπλασιασμού είναι  $7,1 \times 10^8$  έτη και  $4,5 \times 10^9$  έτη.

α) Οί άφθονίες πού δίνονται παραπάνω ισχύουν για όλα τά γήινα δείγματα και για τούς μετεωρίτες πού προέρχονται από τό ήλιακό σύστημα.

Δειξτε ότι ή παρατήρηση αυτή ήποστηρίζει τή θεωρία ότι ή γή σχηματίστηκε στην ίδια περίπου χρονική περίοδο μέ τό υπόλοιπο ήλιακό σύστημα και, άρα, δέν συμβιβάζεται μέ μία θεωρία κατά τήν όποία ό ήλιος συνέλαβε τή γή μετά τό σχηματισμό του.

β) Υποθέστε, για απλούστευση, ότι οί άρχικές ποσότητες των δύο ισότοπων του ουρανίου στό ήλιακό σύστημα ήταν ίσες. Τότε είναι ή ήλιακή του ήλιακού συστήματος πού βρίσκετε;

### Λύση

α) Αν  $N_1$  και  $N_2$  είναι αντίστοιχα ή άριθμοί των ατόμων  $U^{235}$  και  $U^{238}$  στη γή σήμερα και  $N_{01}$  και  $N_{02}$  ήταν οί αντίστοιχοί άριθμοί πριν από χρόνο  $T$ , τότε θά έχουμε προφανώς ότι ό λόγος των άφθονιών θά ίσοῦται μέ

$$\frac{N_1}{N_2} = \frac{N_{01}}{N_{02}} \frac{e^{-\lambda_1 T}}{e^{-\lambda_2 T}} = \frac{N_{01}}{N_{02}} e^{(\lambda_2 - \lambda_1) T} \quad (1)$$

όπου  $\lambda$  είναι ή πιθανότητα διασπάσεως ενός πυρήνα ανά μονάδα χρόνου.

Αντίστοιχα για ένα μετεωρίτη μπορούμε νά γράψουμε ότι

$$\frac{N_1'}{N_2'} = \frac{N_{01}'}{N_{02}'} e^{(\lambda_2 - \lambda_1)T} \quad (2)$$

Σήμερα παρατήρηουμε ότι  $N_1/N_2 = N_1'/N_2'$ . Αν  $N_{01}/N_{02} \neq N_{01}'/N_{02}'$ , θα έπρεπε οι χρόνοι  $T$  και  $T'$  να ήταν ακριβώς εκείνοι που χρειαζονται για να γίνουν ίσα τα δεύτερα μέλη των (1) και (2). Αυτό όμως θα ήταν πάρα πολύ άπιθανο. Η πιο εύλογη εξήγηση θα ήταν ότι οι μετεωρίτες και η γή έχουν κοινή προέλευση και ηλικία, δηλαδή  $N_{01}/N_{02} = N_{01}'/N_{02}'$  και  $T = T'$ .

β) Έστω ότι ο αρχικός αριθμός πυρήνων  $U^{235}$  και  $U^{238}$  στη γή ήταν ο ίδιος και ίσος με  $N_0$  και ότι  $T$  είναι η ηλικία της γής. Η (1) δίνει

$$\frac{N_1}{N_2} = e^{(\lambda_2 - \lambda_1)T}$$

Αν ο ολικός αριθμός πυρήνων ουρανίου σήμερα είναι  $N_{0\lambda}$ , θα έχουμε

$$\frac{N_1/N_{0\lambda}}{N_2/N_{0\lambda}} = e^{(\lambda_2 - \lambda_1)T} = \frac{0.71}{99.28} = 0.00715 \quad (3)$$

Αλλά ο χρόνος υποδιπλασιασμού  $\tau$  συνδέεται με την πιθανότητα διασπάσεως ενός πυρήνα ανά μονάδα χρόνου,  $\lambda$ , με τη σχέση

$$\tau = \frac{\ln 2}{\lambda}$$

Άρα,

$$\lambda_2 - \lambda_1 = \ln 2 \left( \frac{1}{\tau_2} - \frac{1}{\tau_1} \right) = \ln 2 \frac{\tau_1 - \tau_2}{\tau_1 \tau_2}$$

οπότε η (3) δίνει για την ηλικία του ηλιακού συστήματος

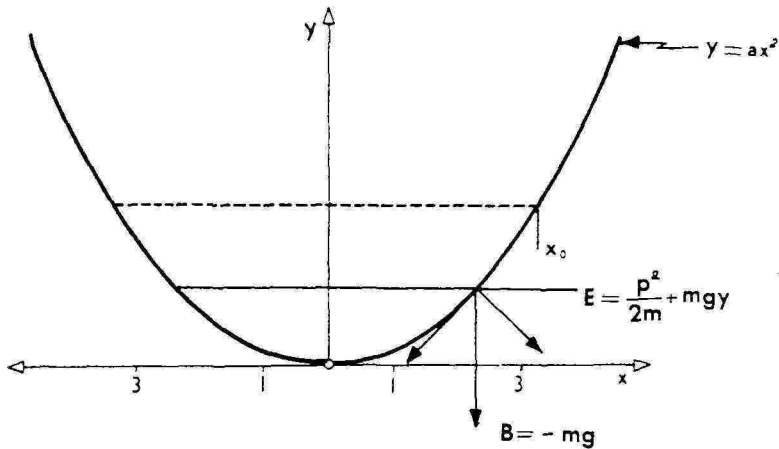
$$T = \frac{1}{\lambda_2 - \lambda_1} \ln(0.00715) = \frac{\ln(0.00715)}{\ln 2} \frac{\tau_1 \cdot \tau_2}{\tau_1 - \tau_2} = 6.0 \times 10^9 \text{ έτη.}$$

### Παράδειγμα II-38

Ένα σωματίδιο με μάζα  $m$  κινείται χωρίς τριβές άπάνω στην παραβολική όδηγό καμπύλη  $y = ax^2$  υπό την επίδραση του βάρους του, όπως φαίνεται στο σχήμα. Υποθέστε ότι ο άξονας  $y$  είναι κατακόρυφος.

α) Νά γραφεί η εξαρτημένη και η μη εξαρτημένη από το χρόνο εξίσωση Schrödinger.

β) Αν  $a = 5 \times 10^{26} \text{ m}^{-1}$  νά βρεθεί η ενέργεια του σωματιδίου στη θεμελιώδη κατάσταση.



### Λύση

Επειδή η αντίδραση της τροχιάς δεν παράγει έργο και δεν έχουμε τριβές ή μεταβολή της κινητικής ενέργειας αντισταθμίζεται τελείως από την αντίστοιχη μεταβολή της δυναμικής ενέργειας εξαιτίας της βαρύτητας, δηλαδή η ποσότητα

$$E = \frac{p^2}{2m} + mgy$$

διατηρείται

Επομένως

$$V(x) = mgy = mgax^2$$

Η εξίσωση Schrödinger που εξαρτάται από το χρόνο γράφεται

$$-\frac{\hbar^2}{2m} \frac{\partial^2 \psi(x, t)}{\partial x^2} + mgax^2 \psi(x, t) = i\hbar \frac{\partial \psi(x, t)}{\partial t}$$

Για την εξίσωση Schrödinger που δεν εξαρτάται από το χρόνο θα έχουμε

$$-\frac{\hbar^2}{2m} \frac{d^2 \psi(x)}{dx^2} + mgax^2 \psi(x) = E\psi(x)$$

β) Η παραπάνω μορφή της εξίσωσης Schrödinger είναι η ίδια με αυτή που βρίσκουμε για ένα απλό αρμονικό ταλαντωτή με σταθερά ελατηρίου  $k=2gam$  ή κυκλική συχνότητα  $\omega_0 = \sqrt{2ga}$ .

Ξέρουμε όμως ότι η ενέργεια της θεμελιώδους καταστάσεως του αρμονικού ταλαντωτή είναι ίση με  $\hbar\omega_0/2$ .

Άρα

$$E_1 = \frac{1}{2} \hbar \omega_1 = \frac{1}{2} \hbar \sqrt{\frac{2}{m}} = \hbar \sqrt{\frac{2}{m}}$$

$$\eta \quad E_1 = 5.5 \times 10^{-8} \text{ MeV} = 0.033 \text{ eV} \approx \frac{1}{30} \text{ eV}.$$

### Παράδειγμα II-39 Σωματίδιο σε όρθογώνιο κουτί

Θεωρήστε σωματίδιο μάζας  $m$  κλεισμένο μέσα σε ένα όρθογώνιο παραλληλεπίπεδο κουτί διαστάσεων  $a, b, c$ . Δείξτε ότι οι κυματοσυναρτήσεις των στασίμων καταστάσεων έχουν τη μορφή  $\psi(x, y, z) = D \sin k_1 x \sin k_2 y \sin k_3 z$  και βρείτε τις δυνατές τιμές των  $k_1, k_2, k_3$  και των αντίστοιχων τιμών της ενέργειας  $E$ .

#### Λύση

Η δυναμική ενέργεια του σωματιδίου μέσα στο κουτί είναι σταθερή (την εκλέγουμε ίση με το μηδέν) ενώ απειρίζεται στα τοιχώματα που θεωρούμε άδιαπεράστα. Η χρονικά άναξάρτητη εξίσωση Schrödinger σε καρτεσιανές συντεταγμένες είναι

$$-\frac{\hbar^2}{2m} \left( \frac{\partial^2}{\partial x^2} + \frac{\partial^2}{\partial y^2} + \frac{\partial^2}{\partial z^2} \right) \psi(x, y, z) + V(x, y, z) \psi(x, y, z) = E \psi(x, y, z) \quad (1)$$

Αν υποθέσουμε:

$$\psi(x, y, z) = X(x)Y(y)Z(z) \quad (2)$$

και αντικαταστήσουμε στην (1) παίρνουμε

$$-\frac{\hbar^2}{2m} \left( YZ \frac{\partial^2 X}{\partial x^2} + XZ \frac{\partial^2 Y}{\partial y^2} + XY \frac{\partial^2 Z}{\partial z^2} \right) = EXYZ \quad (3)$$

Διαιρώντας τά μέλη της (3) με  $XYZ$  παίρνουμε:

$$-\frac{\hbar^2}{2m} \frac{1}{X} \frac{d^2 X}{dx^2} - \frac{\hbar^2}{2m} \frac{1}{Y} \frac{d^2 Y}{dy^2} - \frac{\hbar^2}{2m} \frac{1}{Z} \frac{d^2 Z}{dz^2} = E \quad (4)$$

Επειδή κάθε όρος του αριστερού μέλους της (4) εξαρτάται μόνο από μία μεταβλητή, μπορούμε να γράψουμε για κάθε μεταβλητή μια εξίσωση της μορφής

$$-\frac{\hbar^2}{2m} \frac{d^2 X}{dx^2} = E_i X, \quad i=1, 2, 3 \quad (5)$$

όπου οι σταθερές  $E_1, E_2, E_3$  θα ικανοποιούν τη σχέση:

$$E_1 + E_2 + E_3 = E \quad (6)$$



Ἡ γενική λύση τῆς (5) εἶναι:

$$\psi_1(x) = Ae^{ik_1x} + Be^{-ik_1x}, \quad k_1 = \frac{\sqrt{2mE_1}}{\hbar} \quad (7)$$

Ἀπό τὸ μονοδιάστατο πρόβλημα τοῦ σωματιδίου σέ φρέαρ δυναμικοῦ μέ τοιχώματα ἀπείρου ὕψους θυμόμαστε ὅτι ἡ κυματοσυνάρτηση μηδενίζεται στίς θέσεις τοῦ  $x$  ὅπου τὸ δυναμικό ἀπειρίζεται. Ἔτσι, ἀπό τήν

$$\psi_1(x) = 0 \quad \text{γιὰ} \quad x = 0$$

προκύπτει

$$A + B = 0$$

ὁπότε

$$\psi_1(x) = C \sin k_1 x$$

Ἐπίσης ἀπό τήν

$$\psi_1(x) = 0 \quad \text{γιὰ} \quad x = a$$

προκύπτει ὅτι

$$k_1 = \frac{l\pi}{a} \quad l = 1, 2, \dots$$

Ἀνάλογες σχέσεις ἰσχύουν γιὰ τίς ἄλλες δύο διαστάσεις. Ἔτσι γιὰ τήν ὀλική κυματοσυνάρτηση  $\psi(x, y, z) = X(x)Y(y)Z(z)$  παίρνουμε

$$\psi(x, y, z) = D \sin k_1 x \cdot \sin k_2 y \cdot \sin k_3 z \quad (8)$$

$$\text{ὅπου} \quad k_1 = \frac{\sqrt{2mE_1}}{\hbar} = \frac{l\pi}{a}, \quad k_2 = \frac{\sqrt{2mE_2}}{\hbar} = \frac{m\pi}{b}, \quad k_3 = \frac{\sqrt{2mE_3}}{\hbar} = \frac{n\pi}{c} \quad (9)$$

καί  $D$  τὸ γινόμενο τῶν πλατῶν τῶν μονοδιαστάτων συναρτήσεων πού μπορεῖ νά προσδιοριστεῖ ἀπό τή συνθήκη κανονικοποίησης

$$\int_0^a \int_0^b \int_0^c \psi^* \psi dx dy dz = 1$$

Τέλος, ἀπό τίς (8) καί (9) προκύπτει γιὰ τήν ὀλική ἐνέργεια

$$E_{l,m,n} = \frac{\hbar^2 \pi^2}{2m} \left[ \frac{l^2}{a^2} + \frac{m^2}{b^2} + \frac{n^2}{c^2} \right] \quad (10)$$

ὅπου  $l, m, n$  θετικοί ἀκέραιοι.

## Παράδειγμα II-40

Σωματίδιο μέ μάζα  $m$  βρίσκεται σ' ἓνα μονοδιάστατο κουτί πάνω στόν ἄξονα  $x$  μεταξύ  $x=0$  καί  $x=a$ . Μιά δεδομένη χρονική στιγμή ἡ κυματοσυνάρτηση τοῦ σωματιδίου εἶναι

$$\psi(x) \begin{cases} = A \sin \frac{2\pi x}{a} & \text{γιὰ} \quad 0 < x < \frac{a}{2} \\ = 0 & \text{γιὰ} \quad \frac{a}{2} < x < a \end{cases}$$

Αν τή χρονική αὐτή στιγμή γίνει μιὰ μέτρηση τῆς ἐνέργειας τοῦ σωματιδίου, ποιά εἶναι ἡ πιθανότητα νά προκύψει ἡ τιμὴ  $2\hbar^2\pi^2/ma^2$ ;

### Λύση

Μιά οποιαδήποτε κυματοσυνάρτηση  $\Psi(x)$  τοῦ σωματιδίου στό κουτί  $0 < x < a$  μπορεῖ νά ἐκφραστεῖ σάν γραμμικὴ ὑπέρθηση τῶν κανονικοποιημένων κυματοσυναρτήσεων  $\Phi_1(x)$ ,  $\Phi_2(x)$ ,  $\Phi_3(x)$ ... τῶν στάσιμων καταστάσεων, ὅπου

$$\Phi_n(x) = \sqrt{\frac{2}{a}} \sin\left(\frac{n\pi x}{a}\right)$$

Γράφουμε λοιπὸν γενικά

$$\Psi(x) = c_1\Phi_1(x) + c_2\Phi_2(x) + c_3\Phi_3(x) + \dots$$

Αν ἡ  $\Phi(x)$  εἶναι κανονικοποιημένη οἱ συντελεστές  $c_1, c_2, \dots$  δίνονται ἀπὸ τὰ ὀλοκληρώματα

$$c_n = \int_0^a dx \Phi_n^*(x)\Psi(x)$$

ὅπως εἶναι γνωστὸ ἀπὸ τίς ιδιότητες τῶν σειρῶν Fourier. Ἡ πιθανότητα, σέ μιὰ μέτρηση, νά βρεθεῖ τό σωματίδιο στή στάσιμη κατάσταση  $\Phi_n(x)$  δηλ. νά ἔχει ἐνέργεια

$$E_n = \frac{n^2\pi^2\hbar^2}{2ma^2}$$

εἶναι  $|c_n|^2$ . Ἡ τιμὴ  $2\pi^2\hbar^2/ma^2$  ποὺ μᾶς δόθηκε εἶναι ἡ  $E_2$ . Ἄρα πρέπει νά ὑπολογίσουμε τὸν συντελεστή  $c_2$ . Ἔχουμε

$$c_2 = \int_0^a dx \Phi_2(x)\Psi(x) = A\sqrt{\frac{2}{a}} \int_0^{a/2} dx \sin^2\left(\frac{2\pi x}{a}\right) = \frac{\sqrt{a}}{2\sqrt{2}} A$$

ὁπότε ἡ ζητούμενη πιθανότητα εἶναι  $|c_2|^2 = a|A|^2/8$ .

Ἡ ποσότητα  $|A|^2$  καθορίζεται ἀπὸ τὴ συνθήκη κανονικοποίησης τῆς  $\Psi(x)$ :

$$1 = \int_0^a dx |\Psi(x)|^2 = |A|^2 \int_0^{a/2} dx \sin^2\left(\frac{2\pi x}{a}\right) = a|A|^2/4$$

δηλ.  $|A|^2 = 4/a$ . Ἄρα ἡ ζητούμενη πιθανότητα εἶναι  $1/2$ .

### Παράδειγμα II-41

Δειξτε ότι για ένα σωματίδιο μέσα σε μονοδιάστατο φέρα δυναμικού  $\alpha$ -πειρου ύψους και πλάτους  $2a$ , ή μέση τιμή του τετράγωνου της συντεταγμένης θέσεως είναι

$$\overline{x^2} = \frac{a^2}{3} \left( 1 - \frac{6}{n^2 \pi^2} \right)$$

όπου  $n$  ο κβαντικός αριθμός της ενέργειας. Δειξτε ότι αν  $n \gg 1$ , τότε το  $\overline{x^2}$  τείνει στη κλασικά αναμενόμενη τιμή.

### Λύση

Λύνοντας τη χρονικά ανεξάρτητη εξίσωση Schrodinger βρίσκουμε ότι οι κανονικοποιημένες κυματοσυναρτήσεις που περιγράφουν το σωματίδιο είναι

$$\psi_n(x) = \begin{cases} \sqrt{\frac{1}{a}} \sin\left(\frac{n\pi x}{2a}\right) & , \quad n=2, 4, 6, \dots \\ \sqrt{\frac{1}{a}} \cos\left(\frac{n\pi x}{2a}\right) & , \quad n=1, 3, 5, \dots \end{cases}$$

Αφού η  $\psi_n^* \psi_n$  δίνει την πυκνότητα πιθανότητας ανά μονάδα μήκους, η μέση τιμή του  $x^2$  θα είναι, για  $n$  άρτιο,

$$\begin{aligned} \overline{x^2} &= \int_{-a}^a x^2 \psi_n^* \psi_n dx = \frac{1}{a} \int_{-a}^a x^2 \sin^2\left(\frac{n\pi x}{2a}\right) dx \\ &= \frac{1}{a} \left(\frac{2a}{n\pi}\right)^3 \int_{-\frac{n\pi}{2}}^{\frac{n\pi}{2}} z^2 \sin^2 z dz, \quad \text{όπου } z = \frac{n\pi x}{2a} \end{aligned}$$

Βρίσκουμε ότι

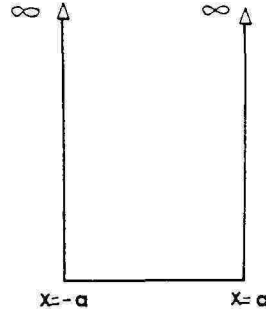
$$\int z^2 \sin^2 z dz = \frac{z^3}{6} - \left(\frac{z^2}{4} - \frac{1}{8}\right) \sin 2z - \frac{z \cos 2z}{4}$$

όποτε

$$\overline{x^2} = \left[ \frac{n^3 \pi^3}{24} - \frac{n\pi}{4} \right] \frac{8a^2}{n^3 \pi^3} = \frac{a^2}{3} \left( 1 - \frac{6}{n^2 \pi^2} \right)$$

Όταν  $n \gg 1$  προφανώς έχουμε  $\overline{x^2} \approx \frac{a^2}{3}$ .

Κλασικά η πιθανότητα  $P$  ανά μονάδα μήκους να βρούμε το σωματίδιο σε οποιαδήποτε θέση μέσα στο φέρα είναι σταθερή. Άρα



$$P = \frac{1}{2a}$$

άφοῦ

$$\int_0^a P dx = 1$$

Κλασικά λοιπόν περιμένουμε

$$\overline{x^2} = \int_0^a x^2 P dx = \frac{1}{2a} \cdot \frac{2a^3}{3} = \frac{a^2}{3}$$

πού συμπίπτει με τὸ κλασικὸ ὄριο τῆς κβαντομηχανικῆς τιμῆς.

Ἐντελῶς ἀνάλογα μπορούμε νὰ ἐργαστοῦμε καί γιὰ τίς καταστάσεις πού περιγράφονται ἀπὸ κυματοσυναρτήσεις με  $n$  περιττό.

### Παράδειγμα II-42

Σωματίδιο με μάζα  $m$  βρίσκεται μέσα στὸ μονοδιάστατο κουτί  $0 < x < a$ . Τῆ χρονικὴ στιγμή  $t=0$  ἡ κυματοσυνάρτηση του εἶναι

$$\varphi(x,0) = \frac{\psi_1(x) + \psi_2(x)}{\sqrt{2}}$$

ὅπου  $\psi_n(x)$  ἡ κανονικοποιημένη κυματοσυνάρτηση τῆς στάσιμης κατάστασης με ἐνέργεια  $E_n = n^2 \pi^2 \hbar^2 / 2ma^2$ . Βρεῖτε τὴν  $\psi(x,t)$  γιὰ τυχόντα χρόνο  $t$  καί τὴν ἀντίστοιχη μέση τιμὴ  $\langle x \rangle$  τῆς συντεταγμένης  $x$  τοῦ σωματιδίου σάν συνάρτηση τοῦ χρόνου  $t$ .

### Λύση

Ὅταν τὸ σωματίδιο βρίσκεται στὴν στάσιμη κατάσταση με κυματοσυνάρτηση  $\psi_1(x)$  ἔχει μιὰ συγκεκριμένη τιμὴ τῆς ἐνέργειας  $E_1 = \pi^2 \hbar^2 / 2ma^2$  καί ἡ κυματοσυνάρτησή του τῆ χρονικὴ στιγμή  $t$  εἶναι

$$\psi_1(x) e^{-E_1 t / \hbar}$$

Τὸ ἴδιο καί ἡ  $\psi_2(x)$  τῆ χρονικὴ στιγμή  $t$  εἶναι

$$\psi_2(x) e^{-E_2 t / \hbar}$$

Κατὰ συνέπεια ὁ γραμμικὸς συνδυασμὸς πού δίνεται σάν κυματοσυνάρτηση γιὰ  $t=0$  ἔχει τὴ χρονικὴ ἐξάρτηση

$$\varphi(x,t) = \frac{1}{\sqrt{2}} \psi_1(x) e^{-E_1 t / \hbar} + \frac{1}{\sqrt{2}} \psi_2(x) e^{-E_2 t / \hbar}$$

Ἄν λάβουμε ὑπόψη ὅτι

$$\psi_1(x) = \sqrt{\frac{2}{a}} \sin\left(\frac{\pi x}{a}\right), \quad E_1 = \pi^2 \hbar^2 / 2ma^2$$

$$\psi_2(x) = \sqrt{\frac{2}{a}} \sin\left(\frac{2\pi x}{a}\right), \quad E_2 = 2\pi^2 \hbar^2 / ma^2$$

είναι εύκολο νά δείξουμε ότι ή παραπάνω  $\varphi(x, t)$  έπαληθεύει τήν εξίσωση Schrodinger

$$-\frac{\hbar^2}{2m} \frac{\partial^2 \varphi}{\partial x^2} = i\hbar \frac{\partial \varphi}{\partial t} \quad \text{για } 0 < x < a.$$

Επίσης ή  $\varphi(x, t)$  είναι κανονικοποιημένη. Πραγματικά έχουμε

$$\int_0^a |\varphi(x, t)|^2 dx = \frac{1}{2} + \frac{1}{2} = 1$$

Άρα ή  $|\varphi(x, t)|^2$  είναι ή πυκνότητα πιθανότητας νά βρεθει τό σωματίδιο στό σημείο  $x$  τή χρονική στιγμή  $t$ . Επομένως ή μέση τιμή του  $x$  τή χρονική στιγμή  $t$  είναι

$$\langle x \rangle = \int_0^a x |\varphi(x, t)|^2 dx$$

$$= \int_0^a x \left| \frac{1}{\sqrt{a}} \sin\left(\frac{\pi x}{a}\right) e^{-iE_1 t/\hbar} + \frac{1}{\sqrt{a}} \sin\left(\frac{2\pi x}{a}\right) e^{-iE_2 t/\hbar} \right|^2 dx$$

$$= \frac{1}{a} \int_0^a x \left\{ \sin^2\left(\frac{\pi x}{a}\right) + \sin^2\left(\frac{2\pi x}{a}\right) + 2\sin\left(\frac{\pi x}{a}\right) \sin\left(\frac{2\pi x}{a}\right) \cos\left(\frac{E_1 - E_2}{\hbar} t\right) \right\} dx$$

$$= a \left[ \frac{1}{2} - \frac{16}{9\pi^2} \cos\left(\frac{3\pi^2 \hbar}{2ma^2} t\right) \right]$$

Βλέπουμε λοιπόν ότι ή μέση τιμή του  $x$  (πού μπορεί νά θεωρηθει σαν ή συντεταγμένη του "κέντρου" τής κυματοδέσμης) κυμαίνεται κατά ήμιτονοειδή τρόπο γύρω από τό μέσο του κουτιού  $x=a/2$ . Η κυκλική συχνότητα τής χρονικής αύτης μεταβολής είναι

$$\omega = \frac{E_2 - E_1}{\hbar} = \frac{3\pi^2 \hbar}{2ma^2}$$

καί αντίστοιχεῖ στή  $\delta \epsilon \alpha \varphi \rho \acute{\alpha}$  τῶν δύο ἐνεργειακῶν σταθμῶν

Σημ. Ὁ παραπάνω ὑπολογισμός ἐξηγεῖ, στά πλαίσια ἑνός ὑπεραπλουστευμένου παραδείγματος, τό λόγο γιατί ὅταν ἕνα ἠλεκτρό-

νιο σ' ένα άτομο μεταπηδά από μια ενεργειακή στάθμη  $E_2$  σε μια άλλη  $E_1$ , εκπέμπει ηλεκτρομαγνητική ακτινοβολία συχνότητας

$$\omega = \frac{E_2 - E_1}{\hbar} \quad (\text{σχέση του Bohr})$$

Μπορούμε να πούμε ότι η κίνηση του ηλεκτρονίου κατά την μετάπτωση αντιστοιχεί με την κίνηση ενός κλασικού (δηλ. μη κβαντικού) ηλεκτρικά φορτισμένου σωματιδίου που ταλαντώνεται με την παραπάνω συχνότητα και επομένως ακτινοβολεί ηλεκτρομαγνητικό κύμα της συχνότητας αυτής.

### Παράδειγμα II-43

Οι κανονικοποιημένες κυματοσυναρτήσεις των 3 πρώτων στασίμων καταστάσεων (κατά αύξουσα ενέργεια) ενός σωματιδίου με μάζα  $m$  κλεισμένου σ' ένα μονοδιάστατο κουτί μήκους  $a$  είναι  $\psi_1(x)$ ,  $\psi_2(x)$  και  $\psi_3(x)$ . Θεωρήστε την κυματοσυνάρτηση

$$\psi(x) = \frac{1}{2}\psi_1(x) + \frac{1}{2}\psi_2(x) + \rho\psi_3(x)$$

α) Υπολογίστε τον αριθμητικό συντελεστή  $\rho$  ώστε η  $\psi(x)$  να είναι κανονικοποιημένη.

β) Ποιά είναι η μέση τιμή της ενέργειας του σωματιδίου όταν η κυματοσυνάρτηση του είναι η  $\psi(x)$ ; Γοιά είναι η τυπική απόκλιση της ενέργειας;

### Λύση

α) Αφού οι  $\psi_1(x)$ ,  $\psi_2(x)$  και  $\psi_3(x)$  ανήκουν σε τρεις διαφορετικές τιμές της ενέργειας έχουμε

$$\int_0^a dx \psi_s^*(x)\psi_t(x) = 1 \quad \text{αν} \quad s=t$$

$$= 0 \quad \text{αν} \quad s \neq t$$

όπου υποθέσαμε ότι τό κουτί εκτείνεται από  $x=0$  ως  $x=a$ .

Οι παραπάνω σχέσεις μās επιτρέπουν να υπολογίσουμε τό ολοκλήρωμα

$$\int_0^a dx \psi^*(x)\psi(x) = \left(\frac{1}{2}\right)^2 + \left(\frac{1}{2}\right)^2 + \rho^* \rho = \frac{1}{2} + \rho^* \rho.$$

Όστε για να είναι η  $\psi(x)$  κανονικοποιημένη πρέπει να διαλέξουμε τον  $\rho$  έτσι ώστε  $\rho^* \rho = \frac{1}{2}$  ή  $|\rho| = \frac{1}{\sqrt{2}}$ . Άρα ο συντελεστής  $\rho$  μπορεί να είναι οποιοσδήποτε από τούς μιγαδικούς αριθμούς με μέτρο  $1/\sqrt{2}$  π.χ.  $\rho = 1/\sqrt{2}$  ή  $-1/\sqrt{2}$  ή  $i/\sqrt{2}$  κλπ. Η γενική μορφή είναι προφανώς

$$\rho = \frac{1}{\sqrt{2}} e^{i\Phi}$$

όπου η φάση  $\Phi$  είναι αυθαίρετη.

β) Όταν τό σωματίδιο βρίσκεται στην κατάσταση μέ κυματοσυνάρτηση  $\psi_1(x)$  έχει μιá όρισμένη ένέργεια  $E_1 = \frac{\pi^2 \hbar^2}{2ma^2}$ . Αντίστοιχα για τίς  $\psi_2(x)$  καί  $\psi_3(x)$  οί τιμές τής ένέργειας είναι  $E_2 = \frac{2\pi^2 \hbar^2}{ma^2}$  καί  $E_3 = \frac{9\pi^2 \hbar^2}{2ma^2}$ .

Όταν τό σωματίδιο βρίσκεται στην κατάσταση μέ κυματοσυνάρτηση  $\psi(x)$  δέν είναι βέβαιο τό αποτέλεσμα μιáς μέτρησης τής ένέργειάς του δηλ. δέν μπορούμε νά πούμε ότι τό σωματίδιο έχει μιá όρισμένη ένέργεια. Τό μόνο πού μπορούμε νά πούμε είναι ότι οί συντελεστές  $1/2, 1/2$  καί  $\rho$  είναι τά πλάτα η πιθανότητες νά βρεθεί τό σωματίδιο στίς καταστάσεις πού χαρακτηρίζονται αντίστοιχα από τίς  $\psi_1, \psi_2$  καί  $\psi_3$ . Τά τετράγωνα τών μέτρων των συντελεστών δηλ.  $1/4, 1/4$  καί  $|\rho|^2 = \frac{1}{2}$  είναι οί πιθανότητες νά βρεθεί τό σωματίδιο στίς αντίστοιχες καταστάσεις, νά έχει δηλ. ένέργεια  $E_1, E_2$  καί  $E_3$  αντίστοιχως. Η άναμενόμενη (δηλ. μέση) τιμή τής ένέργειας είναι λοιπόν

$$\langle E \rangle_{\psi} = \frac{1}{4} E_1 + \frac{1}{4} E_2 + \frac{1}{2} E_3 = 2.875 \frac{\pi^2 \hbar^2}{ma^2}$$

Η μέση τιμή του τετραγώνου τής ένέργειας είναι για τόν ίδιο λόγο:

$$\langle E^2 \rangle_{\psi} = \frac{1}{4} E_1^2 + \frac{1}{4} E_2^2 + \frac{1}{2} E_3^2 = 11.19 \left( \frac{\pi^2 \hbar^2}{ma^2} \right)^2$$

Άρα η τυπική απόκλιση είναι

$$\sqrt{\langle E^2 \rangle_{\psi} - \langle E \rangle_{\psi}^2} = 1.71 C \left( \frac{\pi^2 \hbar^2}{ma^2} \right)$$

#### Παράδειγμα II-44

Σωματίδιο μέ μάζα  $m$  είναι περιορισμένο σ'ένα μονοδιάστατο κουτί μέ άδιαπέραστα τοιχώματα δηλ. σέ δυναμικό

$$V(x) = 0 \quad 0 < x < a$$

$$V(x) = +\infty \quad x < 0 \quad \eta \quad x > a$$

Άν  $\psi_n(x, t)$  είναι οί κανονικοποιημένες κυματοσυναρτήσεις για τίς στάσι-

μες καταστάσεις ( $n=1,2,3,\dots$  κατά αύξουσα ενέργεια) θεωρήστε την κατάσταση που αντιστοιχεί στον έξης γραμμικό συνδυασμό

$$\Psi(x,t) = \frac{\sqrt{3}}{2} \psi_1(x,t) + \frac{1}{2} \psi_2(x,t)$$

α) Δείξτε ότι η  $\Psi(x,t)$  είναι κανονικοποιημένη.

β) Βρείτε για την κατάσταση αυτή την πιθανότητα να βρίσκεται το σωματίδιο στο διάστημα  $(0, a/2)$  συναρτήσει του χρόνου  $t$ .

### Λύση

α) Οί κανονικοποιημένες κυματοσυναρτήσεις των στάσιμων καταστάσεων είναι οι έξης:

$$\psi_n(x,t) = \sqrt{\frac{2}{a}} \sin\left(\frac{n\pi x}{a}\right) e^{-iE_n t/\hbar} \quad \text{όπου} \quad E_n = \frac{n^2 \pi^2 \hbar^2}{2ma^2}$$

Οί συναρτήσεις αυτές ικανοποιούν σχέσεις "όρθογωνιότητας" δηλ. αν  $n \neq n'$  τότε

$$\int_0^a dx \psi_n^*(x,t) \psi_{n'}(x,t) = 0$$

Από την παραπάνω σχέση για  $n, n'$  ίσα προς 1 και 2 εύκολα βρίσκουμε

$$\int_0^a dx |\Psi(x,t)|^2 = \left(\frac{\sqrt{3}}{2}\right)^2 + \left(\frac{1}{2}\right)^2 = 1$$

ώστε η  $\Psi(x,t)$  είναι πράγματι κανονικοποιημένη.

β) Η πυκνότητα της πιθανότητας να βρίσκεται το σωματίδιο στο σημείο με συντεταγμένη  $x$  είναι

$$\begin{aligned} |\Psi(x,t)|^2 &= \left[ \frac{\sqrt{3}}{2} \sqrt{\frac{2}{a}} \sin\left(\frac{\pi x}{a}\right) e^{-iE_1 t/\hbar} + \frac{1}{2} \sqrt{\frac{2}{a}} \sin\left(\frac{2\pi x}{a}\right) e^{-iE_2 t/\hbar} \right]^2 \\ &= \frac{3}{2a} \sin^2\left(\frac{\pi x}{a}\right) + \frac{1}{2a} \sin^2\left(\frac{2\pi x}{a}\right) + \\ &\quad + \frac{\sqrt{3}}{2a} \sin\left(\frac{\pi x}{a}\right) \sin\left(\frac{2\pi x}{a}\right) [e^{i(E_2 - E_1)t/\hbar} + e^{-i(E_2 - E_1)t/\hbar}] \end{aligned}$$

Επομένως για να βρούμε την πιθανότητα να βρίσκεται το σωματίδιο στο άριστερό μισό του κουτιού ολοκληρώνουμε το  $|\Psi(x,t)|^2$  από 0 μέχρι  $a/2$ .

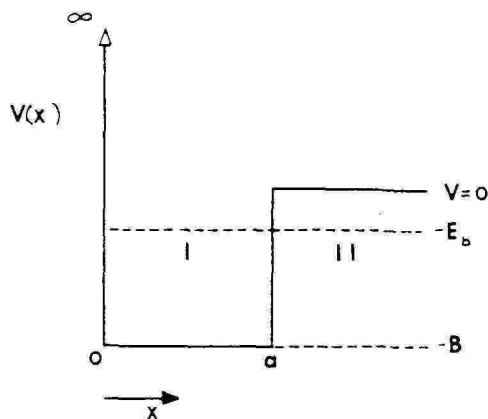
$$\int_0^{a/2} dx |\Psi(x,t)|^2 = \frac{1}{2} + \frac{2}{\sqrt{3}\pi} \cos\left(\frac{3\pi^2 \hbar t}{2ma^2}\right)$$



### Παράδειγμα II-45' Υπόδειγμα πυρήνα δευτερίου

Μερικές από τις ιδιότητες της αλληλεπιδράσεως νετρονίου-πρωτονίου μέσα στο δευτέριο μπορούν να αναπαραχθούν σωστά με το απλό μονοδιάστατο δυναμικό του παρακάτω σχήματος, όπου  $x$  είναι η απόσταση μεταξύ των δύο νουκλεονίων.

Βρείτε τη συνθήκη που πρέπει να ικανοποιεί το εύρος  $a$  και το βάθος  $B$  του δυναμικού αυτού για να υπάρχει ακριβώς μία δέσμια κατάσταση του συστήματος πρωτονίου-νετρονίου.



#### Λύση

Έστω ότι το σύστημα πρωτονίου-νετρονίου έχει ενέργεια  $E = -E_b$  όταν σχηματίζει μία δέσμια κατάσταση. Αφού  $V(x) = 0$  για  $x > a$ , θα είναι  $E_b > 0$ .

Η χρονικά ανεξάρτητη εξίσωση Schrödinger στην περιοχή I γίνεται

$$-\frac{\hbar^2}{2m} \frac{d^2}{dx^2} \psi_I(x) - B\psi_I(x) = -E_b \psi_I(x) \quad (1)$$

$$\text{ή} \quad \frac{d^2 \psi_I(x)}{dx^2} + k^2 \psi_I(x) = 0, \quad k = \frac{\sqrt{2m(B - E_b)}}{\hbar} \quad (2)$$

όπου  $m$  είναι η άνηγμένη μάζα του συστήματος νετρονίου-πρωτονίου. Η γενική λύση της (1) είναι

$$\psi_I(x) = Ae^{ikx} + Be^{-ikx} \quad (3)$$

Στην περιοχή II ( $V=0$ ) η εξίσωση Schrödinger είναι,

$$-\frac{\hbar^2}{2m} \frac{d^2 \psi_{II}(x)}{dx^2} = -E_b \psi_{II}(x)$$

$$\text{ή} \quad \frac{d^2 \psi_{II}(x)}{dx^2} - q^2 \psi_{II}(x) = 0$$

$$\text{όπου} \quad q = \frac{\sqrt{2mE_b}}{\hbar}$$

$$\text{μέ γενική λύση} \quad \psi_{II}(x) = Ce^{+qx} + De^{-qx} \quad (4)$$

Ξέρουμε ότι στις θέσεις όπου το δυναμικό γίνεται  $+\infty$  ή κυματοσυνάρτηση πρέπει να μηδενίζεται. Άρα για  $x=0$  ή (3) δίνει

$$A+B=0$$

οπότε

$$\psi_I(x) = 2iA \sin kx, \quad 0 < x \leq a$$

Επειδή για  $x \rightarrow \infty$  ή  $\psi_{II}(x)$  πρέπει να μηδενίζεται, θέτουμε

$$C=0$$

δηλαδή

$$\psi_{II}(x) = De^{-qx} \quad \text{για } x \geq a.$$

Η συνέχεια της  $\psi$  και της  $\frac{d\psi}{dx}$  στο  $x=a$  οδηγεί στις σχέσεις

$$2iA \sin ka = De^{-qa}$$

$$2iA k \cos ka = -Dq e^{-qa}$$

από τις οποίες προκύπτει ότι

$$\cot ka = -\frac{q}{k}$$

$$\text{ή} \quad \frac{\sqrt{2m(B-E_b)}}{\hbar} \cot\left(a \frac{\sqrt{2m(B-E_b)}}{\hbar}\right) = -\frac{\sqrt{2mE_b}}{\hbar} \quad (5)$$

Η (5) είναι υπερβατική εξίσωση, αλλά μπορεί να λυθεί γραφικά.

Αν θέσουμε

$$z = \frac{a\sqrt{2m(B-E_b)}}{\hbar} \quad (6)$$

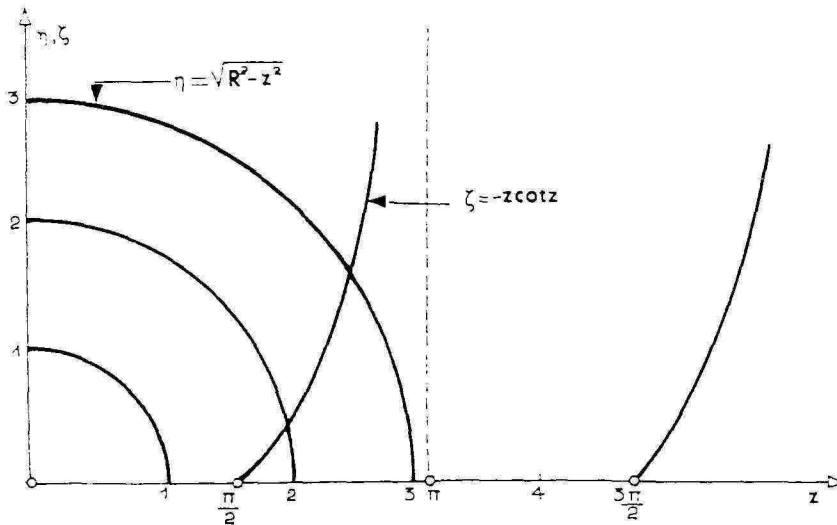
ή (5) γίνεται

$$-z \cot z = \sqrt{R^2 - z^2} \quad (7)$$

όπου

$$R^2 = \frac{2mBa^2}{\hbar^2}$$

Οι ενέργειες  $E < 0$  για τις δέσμιες καταστάσεις βρίσκονται από τις τιμές του  $z$  για τις οποίες η καμπύλη  $\zeta = -z \cot z$  τέμνει τότε τριτοβάθμιο περιφέρειας κύκλου με ακτίνα  $R$  που παριστάνει το δεξιό μέλος της (7). Επειδή η  $\cot z$  μηδενίζεται για  $\pi/2, 3\pi/2, \dots$ , προκύπτει ότι για να τέμνει η περιφέρεια  $\eta = \sqrt{R^2 - z^2}$  τη συνάρτηση  $\zeta = -z \cot z$ , θα πρέπει η ακτίνα  $R$  να ικανοποιεί τη σχέση  $\frac{\pi}{2} \leq R$ . Άρα, το σύστημα πρωτονίου-νετρονίου θα έχει ακριβώς μία δέσμια κατάσταση μόνο αν το βάθος  $B$  του δυναμικού και το πλάτος του  $a$  ικανοποιούν τη σχέση



$$\frac{\pi}{2} \leq \frac{\sqrt{2mB}}{\hbar} a < \frac{5\pi}{2} \quad (8)$$

\*Αν συνέβαινε  $R < \frac{\pi}{2}$ , τό ισότοπο δευτέριο δέν θά υπήρχε στή φύση.

Σημείωση: Γά πειραματικά δεδομένα για τό δευτέριο είναι  $a=1,85F$  ( $1F=10^{-15}m$ ) καί  $B=41,6$  MeV. \*Αν λύσουμε γραφικά τήν εξίσωση (7) μέ τόν τρόπο πού υποδείχθηκε, βρίσκουμε ότι τό δευτερόνιο έχει ακριβώς μία δέσμια κατάσταση καί ότι ή ενέργεια συνδέσεως  $E_b$  για'αυτή τή κατάσταση είναι 2,15 MeV. Αυτό άποτελεί πολύ καλή προσέγγιση άν συγκριθεί μέ τήν πειραματική τιμή τών 2,21 MeV.

#### Παράδειγμα II-46 Θεμελιώδης κατάσταση του ατόμου του υδρογόνου

\*Η κυματοσυνάρτηση πού περιγράφει τή θεμελιώδη κατάσταση του ατόμου του υδρογόνου έχει τή μορφή

$$\varphi(r) = Ae^{-\lambda r} \quad \text{όπου} \quad r = \sqrt{x^2 + y^2 + z^2}$$

καί  $A, \lambda$  είναι σταθερές.

\*Υπολογίστε τήν παράμετρο  $\lambda$  καί βρείτε τήν όλική ενέργεια  $E$  του ατόμου του υδρογόνου στή θεμελιώδη κατάσταση.

## Λύση

Έχουμε ότι,

$$\frac{\partial \varphi}{\partial x} = A \frac{\partial}{\partial x} e^{-\lambda \sqrt{x^2+y^2+z^2}} = -A \frac{x}{r} e^{-\lambda r} \quad (1)$$

$$\begin{aligned} \frac{\partial^2 \varphi}{\partial x^2} &= A \left\{ -\frac{\lambda}{r} + \frac{(\lambda x)x}{r^3} + \left( \frac{-\lambda x}{r} \right)^2 \right\} e^{-\lambda r} \\ &= A \left( -\frac{\lambda}{r} + \frac{\lambda x^2}{r^3} + \frac{\lambda^2 x^2}{r^2} \right) e^{-\lambda r} \quad (2) \end{aligned}$$

Οι εκφράσεις των  $\frac{\partial^2 \varphi}{\partial y^2}$  και  $\frac{\partial^2 \varphi}{\partial z^2}$  βρίσκονται από την (2) αν αντικαταστήσουμε τό  $x$  με τό  $y$  ή τό  $z$  αντίστοιχα. Επομένως,

$$\begin{aligned} \frac{\partial^2 \varphi}{\partial x^2} + \frac{\partial^2 \varphi}{\partial y^2} + \frac{\partial^2 \varphi}{\partial z^2} &= A \left\{ -\frac{3\lambda}{r} + \frac{\lambda(x^2+y^2+z^2)}{r^3} + \frac{\lambda^2(x^2+y^2+z^2)}{r^2} \right\} e^{-\lambda r} \\ &= A \left( -\frac{3\lambda}{r} + \frac{\lambda}{r} + \lambda^2 \right) e^{-\lambda r} = A \left( -\frac{2\lambda}{r} + \lambda^2 \right) e^{-\lambda r} \end{aligned}$$

όποτε η εξίσωση Schrödinger δίνει τη σχέση

$$-\frac{\hbar^2}{2m} \left( -\frac{2\lambda}{r} + \lambda^2 \right) e^{-\lambda r} - \frac{e^2}{4\pi\epsilon_0 r} e^{-\lambda r} = E e^{-\lambda r}$$

Ανακατατάσσοντας τούς όρους παίρνουμε τη σχέση

$$\left( \frac{\hbar^2}{m} \lambda - \frac{e^2}{4\pi\epsilon_0} \right) \frac{1}{r} = \left( E + \frac{\hbar^2}{2m} \lambda^2 \right)$$

πού πρέπει να αληθεύει για όλες τις τιμές του  $r$ .

Από αυτή βρίσκουμε τις ζητούμενες τιμές για την παράμετρο  $\lambda$  και την ολική ενέργεια του ατόμου του υδρογόνου για τη θεμελιώδη στάθμη:

$$\lambda = \frac{me^2}{4\pi\epsilon_0 \hbar^2} \quad \text{και} \quad E = -\frac{m}{2\hbar^2} \left( \frac{e^2}{4\pi\epsilon_0} \right)^2$$

### Παράδειγμα II-47 Positronium

Κάτω από όρισμένες συνθήκες ένα ηλεκτρόνιο και ένα ποζιτρόνιο σχηματίζουν μία δέσμια κατάσταση γνωστή με το όνομα positronium. Η κατάσταση αυτή μοιάζει με το άτομο του υδρογόνου στο οποίο τό ηλεκτρόνιο και τό πρωτόνιο περιστρέφονται γύρω από τό κέντρο μάζας τους, έπειδή όμως οί μάζες του ηλεκτρονίου και του ποζιτρονίου είναι ίσες δέν μπορεί νά άμεληθεί ή κίνηση του ποζιτρονίου.

- α) Υπολογίστε τις ενεργειακές στάθμες του συστήματος.  
 β) Ποιό είναι το μήκος κύματος  $\lambda$  της ακτινοβολίας που εκπέμπεται όταν το σύστημα μεταπίπτει από την πρώτη διεγερμένη στη θεμελιώδη κατάσταση;

### Λύση

Τό σύστημα δύο σωμάτων  $m_1$  και  $m_2$  που περιστρέφονται γύρω από τό κέντρο βάρους τους είναι ισοδύναμο μέ τό σύστημα κατά τό όποιο ένα σώμα μέ άνηγμένη μάζα

$$m_r = \frac{m_1}{1 + \frac{m_1}{m_2}}$$

περιστρέφεται γύρω από σταθερό σημείο. Για τό άτομο του υδρογόνου

$$\frac{m_1}{m_2} = \frac{m_p}{m_e} \approx \frac{1}{1836}$$

καί

$$m_r \approx m_e$$

Γιά τό σύστημα ήλεκτρονίου - ποζιτρονίου

$$m_r = \frac{m_{e^-}}{1 + \frac{m_{e^-}}{m_{e^+}}} = \frac{m_e}{2}$$

α) Οί ενεργειακές στάθμες  $E_n$ , για τό άτομο του υδρογόνου δίνονται από τή σχέση

$$E_n = - \frac{m_e e^4}{2\hbar^2 (4\pi\epsilon_0)^2} \frac{1}{n^2}, \quad n=1, 2, 3, \dots$$

Γιά νά βροῦμε τις αντίστοιχες στάθμες για τό σύστημα ήλεκτρονίου-ποζιτρονίου αντικαθιστούμε τό  $m_e$  μέ  $m_r = \frac{m_e}{2}$  καί βρίσκουμε

$$E_n^{(p)} = - \frac{m_e e^4}{4\hbar^2 (4\pi\epsilon_0)^2} \frac{1}{n^2} = \frac{1}{2} E_n$$

β) Η ενέργεια της θεμελιώδους κατάστασης θά είναι ίση μέ

$$E_1^{(p)} = \frac{1}{2} E_1 = - 6.76 \text{ eV}$$

Τό μήκος κύματος  $\lambda$  της ακτινοβολίας που εκπέμπεται βρίσκεται από τή γνωστή σχέση που συνδέει τή συχνότητα  $\nu$  της έκπεμπό-

μενης ακτινοβολίας με τη διαφορά  $\Delta E$  των ενεργειακών σταθμών μεταξύ των οποίων γίνεται η μετάπτωση

$$h\nu = \Delta E$$

$$\eta \quad h\nu = \frac{hc}{\lambda} = E_2 - E_1 = -\frac{3}{4} E_1$$

$$\eta \quad \lambda = -\frac{4}{3} \frac{hc}{E_1} = \frac{4}{3} \frac{1.24 \times 10^{-12} \text{ MeV} \cdot \text{m}}{6.76 \times 10^{-8} \text{ MeV}}$$

$$\eta \quad \lambda = 2.445 \times 10^{-7} \text{ m} = 2445 \text{ \AA}$$

πού βρίσκεται στην υπεριώδη περιοχή.

### Παράδειγμα II-48

Σωματίδιο με σπίν μηδέν βρίσκεται μέσα σε δυναμικό που έχει σφαιρική συμμετρία ως προς την άρχή των συντεταγμένων. Μία από τις στάσιμες καταστάσεις του σωματιδίου έχει κυματοσυνάρτηση της μορφής

$$\psi(x, y, z) \equiv (x^2 - y^2) f(r) \quad \text{όπου} \quad r = \sqrt{x^2 + y^2 + z^2}$$

Αν δίνεται η  $f(r)$ , βρείτε όσες περισσότερες γραμμικά ανεξάρτητες κυματοσυναρτήσεις μπορείτε, που να αντιστοιχούν σε στάσιμες καταστάσεις που έχουν την ίδια ενέργεια με την παραπάνω κυματοσυνάρτηση  $\psi(x, y, z)$ .

### Λύση

Αφού υπάρχει σφαιρική συμμετρία, δεν πρέπει να υπάρχει διακρίση μεταξύ των αξόνων συντεταγμένων δηλ. αν η  $(x^2 - y^2) f(r)$  ικανοποιεί την εξίσωση Schrodinger με κεντρικό δυναμικό  $V(r)$ :

$$-\frac{\hbar^2}{2m} \left( \frac{\partial^2 \psi}{\partial x^2} + \frac{\partial^2 \psi}{\partial y^2} + \frac{\partial^2 \psi}{\partial z^2} \right) + V(r) \psi = E \psi$$

για μία τιμή της ενέργειας  $E$  τότε και οι  $(y^2 - z^2) f(r)$  και  $(z^2 - x^2) f(r)$  θα την ικανοποιούν για την ίδια τιμή της ενέργειας  $E$ . Επειδή το άθροισμα των παραπάνω τριών κυματοσυναρτήσεων μηδενίζεται, έχουμε βρει συνολικά μόνο 3 γραμμικά ανεξάρτητες π.χ. τις

$$(x^2 - y^2) f(r) \quad \text{και} \quad (y^2 - z^2) f(r)$$

Υπάρχουν όμως κι άλλες. Αν κάνουμε μία στροφή π.χ. κατά  $45^\circ$  των αξόνων  $x$  και  $y$  στο επίπεδό τους, μία ώρισμένη κυματοσυνάρτηση αλ-

λάζει μορφή έτσι ώστε η νέα κυματοσυνάρτηση να προκύπτει από την παλιά με την αντικατάσταση

$$x \rightarrow \frac{x+y}{\sqrt{2}} \quad \text{και} \quad y \rightarrow \frac{x-y}{\sqrt{2}}$$

Μ'αυτόν τον τρόπο η  $(x^2 - y^2)f(r)$  δίνει

$$\left[ \left( \frac{x+y}{\sqrt{2}} \right)^2 - \left( \frac{x-y}{\sqrt{2}} \right)^2 \right] f(r) = 2xy f(r)$$

Άρα και η  $xy f(r)$  πρέπει να ικανοποιεί την παραπάνω εξίσωση Schrodinger για την ίδια τιμή της ενέργειας  $E$ . Απ'αυτήν προκύπτουν και οι  $yzf(r)$  και  $zxf(r)$  αφού δεν υπάρχει διάκριση μεταξύ των άξόνων. Έχουμε λοιπόν τρεις έξης 5 γραμμικά ανεξάρτητες κυματοσυναρτήσεις για την ίδια τιμή της ενέργειας

$$(x^2 - y^2)f(r), \quad (y^2 - z^2)f(r), \quad xyf(r), \quad yzf(r), \quad zxf(r)$$

Μπορούν να προκύψουν και άλλες αν χρησιμοποιήσουμε άλλου είδους στροφές κλπ.; Η απάντηση είναι όχι. Πράγματι για οποιαδήποτε στροφή των άξόνων ο αντίστοιχος μετασχηματισμός των συντεταγμένων  $x, y, z$  είναι γραμμικός και όμογενής. Έπομένως ένα όμογενές πολυώνυμο 2ου βαθμού όπως τα  $x^2 - y^2$ ,  $y^2 - z^2$  κλπ. παραμένει όμογενές πολυώνυμο 2ου βαθμού. Αλλά τέτοια πολυώνυμα των τριών μεταβλητών  $x, y$  και  $z$  που να είναι γραμμικά ανεξάρτητα υπάρχουν ακριβώς 6. Μπορούμε να θεωρήσουμε π.χ. τα πολυώνυμα

$$x^2, y^2, z^2, xy, yz, zy$$

ή τα  $x^2 - y^2, y^2 - z^2, xy, yz, zy$  και  $x^2 + y^2 + z^2$

Επειδή όμως τέ τελευταίο πολυώνυμο  $x^2 + y^2 + z^2$  ισοῦται με  $r^2$  και είναι α ν α λ λ ο ί ω τ ο ως προς στροφές των άξόνων προφανώς είναι αδύνατο να προκύψει από στροφές και γραμμικούς συνδυασμούς των πέντε πρώτων. Άρα τό σύστημα των πέντε πρώτων πολυωνύμων είναι "κλειστό" ως προς στροφές και γραμμικούς συνδυασμούς.

Σημείωση: Μπορεί να δειχτεί ότι οι παραπάνω 5 κυματοσυναρτήσεις αντιστοιχούν σε καταστάσεις του σωματιδίου με τό ίδιο μέτρο στροφορμής και διαφέρουν μόνο ως προς τόν προσανατολισμό της στροφορμής.

**Παράδειγμα II-49**

\*Επαναλάβετε τό προηγούμενο πρόβλημα άν ή κυματοσυνάρτηση μιās από τίς στάσιμες καταστάσεις έχει τή μορφή

$$\psi(x,y,z)=zf(r) \quad \text{όπου} \quad r=\sqrt{x^2+y^2+z^2}$$

**Λύση**

\*Από τή σφαιρική συμμετρία του δυναμικού προκύπτει ότι δέν υπάρχει προτίμηση για καμμιά κατεύθυνση στό χώρο. Άρα καί οι  $\chi f(r)$ ,  $y f(r)$  είναι κυματοσυναρτήσεις καταστάσεων για τήν ίδια ενέργεια όπως καί ή  $z f(r)$ . Συνολικά λοιπόν έχουμε τρεις γραμμικά ανεξάρτητες κυματοσυναρτήσεις:

$$\chi f(r), \quad y f(r) \quad \text{καί} \quad z f(r)$$

Κάθε άλλη κυματοσυνάρτηση πού προκύπτει από τήν έκλογή ενός τυχόντα άξονα κατά τήν κατεύθυνση του μοναδιαίου διανύσματος  $\vec{n}$ , δηλ. ή  $(\vec{r} \cdot \vec{n}) f(r)$  είναι γραμμικός συνδυασμός των παραπάνω τριών άφοϋ αυτή ή κυματοσυνάρτηση μπορεί νά γραφτεϊ σαν γραμμικός συνδυασμός

$$(\vec{r} \cdot \vec{n}) f(r) = n_x \chi f(r) + n_y y f(r) + n_z z f(r)$$

**Παράδειγμα II-50 Θεμελιώδης στάθμη του άρμονικού ταλαντωτή**

Δίνεται ότι ή κυματική συνάρτηση πού περιγράφει τή θεμελιώδη κατάσταση ενός γραμμικού άρμονικού ταλαντωτή με μάζα  $m$  καί κλασική "σταθερά έλατηρίου"  $K$  έχει τή μορφή  $\psi(x) = A \exp(-\alpha x^2)$ .

α) Προσδιορίστε τίς (πραγματικές) σταθερές  $A, \alpha$  καθώς καί τήν ενέργεια  $E_0$  τής θεμελιώδους κατάστασης του ταλαντωτή.

β) Πόση θά ήταν ή ενέργεια  $E_1$  κατά τήν κλασική Φυσική; Με ποιά θεμελιώδη άρχή τής Κβαντικής Μηχανικής αντιφάσκει ή κλασική τιμή τής  $E_0$  καί γιατί;

**Λύση**

α) Θεωρούμε τήν (ανεξάρτητη από τό χρόνο) εξίσωση Schrödinger για τό γραμμικό άρμονικό ταλαντωτή, δηλ.

$$-\frac{\hbar^2}{2m} \frac{d^2}{dx^2} \psi(x) + \frac{1}{2} Kx^2 \psi(x) = E \psi(x).$$

\*Αφοϋ δίνεται ή κυματοσυνάρτηση τής βασικής κατάστασης,

$$\psi(x) = A e^{-\alpha x^2}, \quad \text{όποτε} \quad \psi''(x) = A(-2\alpha + 4\alpha^2 x^2) e^{-\alpha x^2},$$

θά ισχύει ή παρακάτω ταυτοτική σχέση



$$-\frac{\hbar^2}{2m} (-2\alpha + 4\alpha^2 x^2) + \frac{1}{2} Kx^2 = E_0,$$

πού μᾶς δίνει

$$\frac{2\alpha^2 \hbar^2}{m} = \frac{1}{2} K \quad \eta \quad \alpha = \frac{(mK)^{1/2}}{2\hbar}$$

$$E_0 = \alpha \frac{\hbar^2}{m} \quad \eta \quad E_0 = \frac{1}{2} \hbar \left( \frac{K}{m} \right)^{1/2}.$$

Γιά τήν εὑρεση τῆς σταθερᾶς  $\Lambda$  παρατηροῦμε ὅτι ἡ δσομένη κυματοσυνάρτηση  $\psi(x)$  θά πρέπει νά εἶναι κανονικοποιημένη (ἀφοῦ ὁ ταλαντωτής βρίσκεται ὁπωσδήποτε κ ἄ π ο υ πάνω στόν ἄξονα  $x$ ). Ἐπομένως θά ἰσχύει

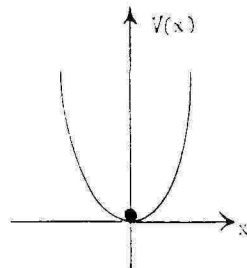
$$1 = \int_{-\infty}^{+\infty} |\psi(x)|^2 dx = A^2 \int_{-\infty}^{+\infty} e^{-2\alpha x^2} dx = A^2 \sqrt{\frac{\pi}{2\alpha}}^*,$$

ἄρα

$$A = \left( \frac{2\alpha}{\pi} \right)^{1/4} = \left( \frac{\sqrt{mK}}{\pi^2 \hbar^2} \right)^{1/4}.$$

β) Ἡ ἐλάχιστη κλασική τιμή τῆς ἐνέργειας ἐνός ἀρμονικοῦ ταλαντωτῆ εἶναι προφανῶς ἡ  $E_0 = 0$ . Αὐτή ἀντιστοιχεῖ σ' ἕναν ἀκίνητο ἀρμονικό ταλαντωτή (στόν πυθμένα τοῦ πηγαδιοῦ

$V(x) = \frac{1}{2} Kx^2$  στή θέση  $x=0$ ). Παρατηροῦμε ὅτι μιά τέτοια κατάσταση εἶναι κβαντομηχανικά ἀπαράδεκτη, ἀφοῦ σ' αὐτή γνωρίζουμε ἀκριβῶς καί τή θέση ( $x=0$ ) καί τήν ὁρμή ( $p=0$ ) τοῦ ταλαντωτῆ καί δέν ἱκανοποιεῖται ἡ Ἀρχή τῆς Ἀβεβαιότητας τοῦ Heisenberg. Ἡ ἐλάχιστη τιμή τῆς ἐνέργειας ἐνός κβαντικοῦ ἀρμονικοῦ ταλαντωτῆ εἶναι αὐτή πού βρήκαμε στό (α) ἐρώτημα ("ἐνέργεια ἀπολύτου μηδενός").



### Παράδειγμα II-51

Ἐποθέτουμε ὅτι τό ἐνεργό ἐνδομοριακό δυναμικό, πού ἀναπαράγει τίς χαμηλές στάθμες ταλάντωσης ἐνός διατομικοῦ μόριου, ἔχει τή μορφή

$$V(x) = \begin{cases} \frac{1}{2} Kx^2 & \text{ἄν } x > 0 \\ 8Kx^2 & \text{ἄν } x < 0 \end{cases}$$

\*  $\int_{-\infty}^{+\infty} e^{-\beta x^2} dx = \sqrt{\pi/\beta}$